

Mas Titing Sumarmi
Siti Kamsiyati



Asyiknya Belajar Matematika

Untuk SD/MI Kelas II



PUSAT PERBUKUAN
Departemen Pendidikan Nasional

2

Mas Titing Sumarmi
Siti Kamsiyati

Asyiknya Belajar **M**atematika Untuk SD/MI Kelas II



PUSAT PERBUKUAN
Departemen Pendidikan Nasional



J cni"E k v c"Rcf c"F gr ctvgo gp"Rgpf k kncp"Pculqpcn
F kdp wpi kwpf cpi /wpf cpi

Asyiknya Belajar Matematika

Untuk Kelas II SD/MI

Penulis : Mas Titing Sumarmi
Siti Kamsiyati

Editor : Sherly Hanawati

Editor Ahli : Idris Harta

Setting & layout : Retno Widiastuti

Desain sampul : Mulyanto

Desain Isi : Ary Nugroho

```
5940"
OCU" "OCU"Vklpi "Uwo cto k
c" "Cu{ knc{ c"Dgrclct"Ocvgo cvknc"4"<WpwniUF 1OK"Mgrcu"Kk1
"r gpwku."Ocu"Vklpi "Uwo cto k"UkK'Mco uk cvk=gf kqt."Uj gtrq"J cpcy cvk"K tku"
J ctvc0//""Lcncvc"<Rwucv'Rgtdwncp."F gr ctvgo gp"Rgpf k kncp"
Pculqpcn"422; 0
" " " "xkk""3: 6"j ro 0<kwu0="47"eo 0
" " " "Ddnqi tchK<ij ro 03: 2"
" " " "kpf gnu"
" " " "KJDP"; 9: /; 9; /28: /776/5**Pq0Lk0Ngpi ncr +
KJDP"; 9: /; 9; /28: /776-7
" " " "30Cvgo cvknc/Uwrf kf cp"Rgpi clctcp""
" " " "40Cvgo cvknc/Rgpf k kncp"F cuct"
" " " "KOLwf wn""K0"UkK'Mco uk cvk""K0Uj gtrq"J cpcy cvk""K0"K tku"J ctvc"
```

Hak Cipta Buku ini dibeli oleh Departemen Pendidikan Nasional
dari Penerbit Widya Duta Grafika, PT

Diterbitkan oleh Pusat Perbukuan
Departemen Pendidikan Nasional
Tahun 2009

Diperbanyak oleh ...



s a m b u t a n

Puji syukur kami panjatkan ke hadirat Allah SWT, berkat rahmat dan karunia-Nya, Pemerintah, dalam hal ini, Departemen Pendidikan Nasional, pada tahun 2009, telah membeli hak cipta buku teks pelajaran ini dari penulis/penerbit untuk disebarluaskan kepada masyarakat melalui situs internet (*website*) Jaringan Pendidikan Nasional.

Buku teks pelajaran ini telah dinilai oleh Badan Standar Nasional Pendidikan dan telah ditetapkan sebagai buku teks pelajaran yang memenuhi syarat kelayakan untuk digunakan dalam proses pembelajaran melalui Peraturan Menteri Pendidikan Nasional Nomor 81 Tahun 2008 tanggal 11 Desember 2008.

Kami menyampaikan penghargaan yang setinggi-tingginya kepada para penulis/penerbit yang telah berkenan mengalihkan hak cipta karyanya kepada Departemen Pendidikan Nasional untuk digunakan secara luas oleh para siswa dan guru di seluruh Indonesia.

Buku-buku teks pelajaran yang telah dialihkan hak ciptanya kepada Departemen Pendidikan Nasional ini, dapat diunduh (*down load*), digandakan, dicetak, dialihmediakan, atau difotokopi oleh masyarakat. Namun, untuk penggandaan yang bersifat komersial harga penjualannya harus memenuhi ketentuan yang ditetapkan oleh Pemerintah. Diharapkan bahwa buku teks pelajaran ini akan lebih mudah diakses sehingga siswa dan guru di seluruh Indonesia maupun sekolah Indonesia yang berada di luar negeri dapat memanfaatkan sumber belajar ini.

Kami berharap, semua pihak dapat mendukung kebijakan ini. Kepada para siswa kami ucapkan selamat belajar dan manfaatkanlah buku ini sebaik-baiknya. Kami menyadari bahwa buku ini masih perlu ditingkatkan mutunya. Oleh karena itu, saran dan kritik sangat kami harapkan.

Jakarta, Juni 2009
Kepala Pusat Perbukuan



pengantar

apa kabar anak-anak indonesia
salam jumpa
pastinya sekarang kalian senang sekali
karena sudah naik kelas

buku matematika ini hadir menjumpai kalian
agar kalian senang belajar matematika

buku ini akan membantu kalian
agar pandai berhitung
juga mengerjakan soal matematika
hitungan matematika yang terlihat sulit
disajikan dengan sederhana dan mudah
untuk menemani kalian belajar

penulis sadar buku ini belum sempurna
saran dan kritik akan penulis terima dengan baik
semoga buku ini berguna bagi kalian
selamat belajar
semoga sukses

surakarta, mei 2008

penulis





pendahuluan

buku matematika seri ini disusun untuk kemajuan belajar anak-anak indonesia

semoga siswa mudah memahami materi yang diberikan karena penyajian materi diberikan dengan sederhana
setiap bab dalam buku ini disajikan sebagai berikut

- 1 peta konsep sajian materi menjadi ringkas dan jelas
- 2 materi disusun berdasarkan peraturan menteri pendidikan nasional ri no 22 dan 23 tahun 2006
- 3 latihan berisi soal-soal untuk mengasah kemampuan siswa secara mandiri
- 4 berpikir kritis melatih kemampuan berpikir siswa secara bebas
- 5 kegiatan berisi kegiatan untuk melatih kecepatan berpikir
- 6 rangkuman berisi inti dari materi yang diberikan untuk memudahkan belajar siswa
- 7 evaluasi berisi soal-soal yang berkualitas dilengkapi dengan jawaban soal terpilih
- 8 refleksi berfungsi untuk menguji kemampuan kalian dalam menerima materi pelajaran
- 9 glosarium berisi daftar kata penting beserta artinya
- 10 indeks berisi daftar kata penting dan halaman munculnya kata tersebut
- 11 latihan ulangan semester 1 dan 2 berisi soal soal yang mencakup keseluruhan materi pelajaran dilengkapi kunci jawaban terpilih

semoga buku ini menjadi teman yang menyenangkan dalam belajar matematika

akhirnya penulis mengucapkan selamat belajar tetap semangat dan sukses selalu

penulis



daftar isi



sambutan	iii
pengantar	iv
pendahuluan	v
daftar isi	vi
bab 1 bilangan cacah	
a membilang	4
b membandingkan kumpulan benda dan bilangan	12
c mengurutkan bilangan	16
d nilai tempat	21
e penjumlahan	24
f pengurangan	49
rangkuman	67
evaluasi	68
bab 2 pengukuran	
a waktu	73
b panjang	87
c berat	96
rangkuman	108
evaluasi	109
latihan ulangan semester 1	113
bab 3 perkalian dan pembagian	
a perkalian	121
b pembagian	128
c operasi hitung campuran	134
d operasi hitung dalam kehidupan sehari hari	136
rangkuman	140
evaluasi	141



bab 4 bangun datar

a mengelompokkan bangun datar	147
b unsur unsur bangun datar	157
rangkuman	167
evaluasi	170
latihan ulangan semester 2	173
glosarium	179
daftar pustaka	180
indeks	181
kunci jawaban	182




bab

1

bilangan cacah

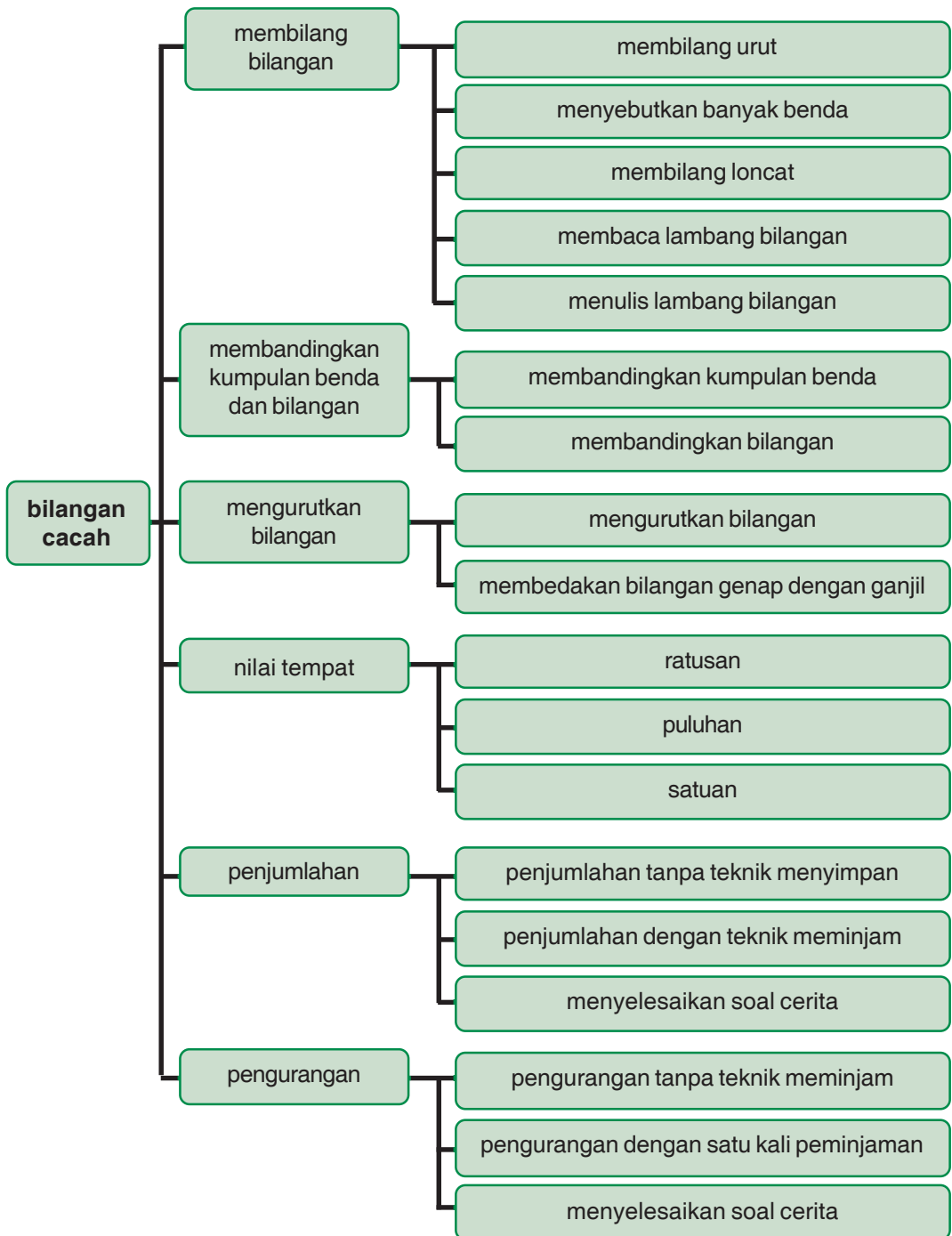
tujuan pembelajaran

- 1 siswa dapat membilang bilangan
- 2 siswa dapat membandingkan kumpulan benda dan bilangan
- 3 siswa dapat mengurutkan bilangan
- 4 siswa dapat menentukan nilai tempat bilangan sampai 500
- 5 siswa dapat melakukan operasi penjumlahan
- 6 siswa dapat melakukan operasi pengurangan





p e t a k o n s e p





empat orang mengikuti lomba sepeda santai
pada setiap kaos tertulis nomor peserta

peserta 1 tertulis 113

peserta 2 tertulis 124

peserta 3 tertulis 106

peserta 4 tertulis 128


siapakah yang mendaftar terlebih dahulu



a membilang

1 membilang secara urut


perhatikan bilangan pada gambar rumah berikut




rumah lula



rumah sofyan



rumah alban



rumah adi



rumah susi


1 urutkan nomor rumah mereka ke kanan

104
-----	-----	-----	-----	-----


2 nomor berapakah rumah lula dan adi

2 menyebutkan banyak benda

ayo kita sebutkan banyak benda berikut



3 jeruk



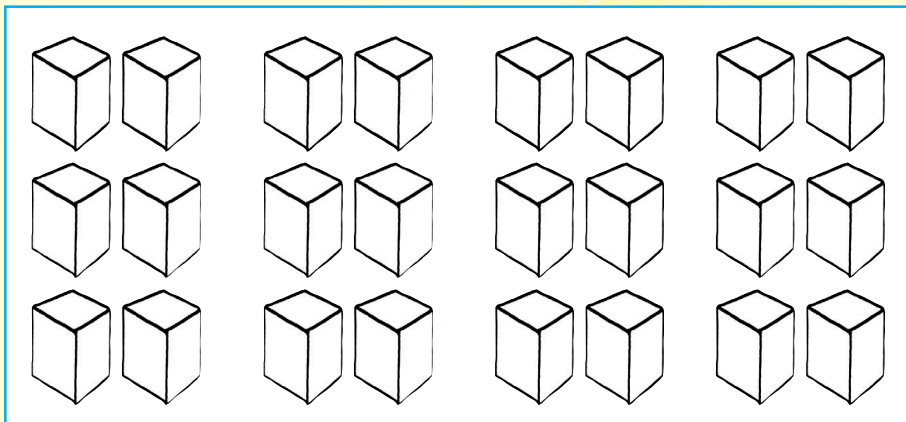
20 jeruk



latihan 1


tuliskan banyak benda berikut

1




... kotak

2




... bunga

3



... bola


4



... kupu kupu




5



... kelereng

3 Membilang loncat



katak sedang melompat 2

bilangannya

bilangan berapa selanjutnya



latihan 2

1 isilah kotak dengan membilang loncat tiga

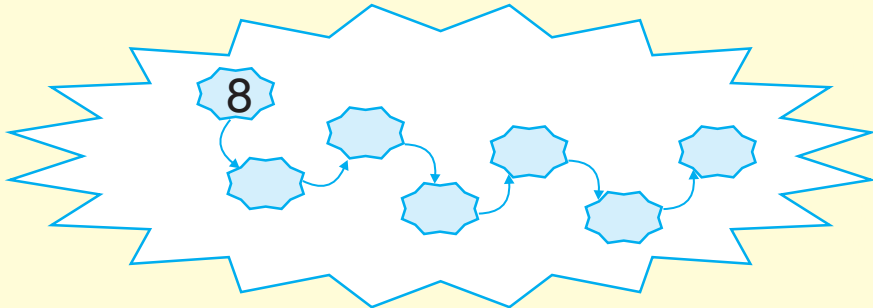
a	<input type="text" value="120"/>	<input type="text" value="123"/>	<input type="text" value="..."/>	<input type="text" value="..."/>	<input type="text" value="..."/>
b	<input type="text" value="175"/>	<input type="text" value="178"/>	<input type="text" value="..."/>	<input type="text" value="..."/>	<input type="text" value="..."/>
c	<input type="text" value="..."/>	<input type="text" value="..."/>	<input type="text" value="392"/>	<input type="text" value="..."/>	<input type="text" value="398"/>

2) tentukan bilangan pada kotak

a

lengkapi urutan bilangan yang belum ada
loncat berapakah urutan bilangan di atas

b katak meloncati teratai dengan loncatan 2



pada bilangan berapa sampai di tepi lain

3



seorang anak meloncati batu dengan
loncatan 5

pada bilangan berapa anak itu mulai melompat



4 membaca lambang bilangan

perhatikan bilangan berikut

296

cara membacanya



dua ratus sembilan puluh enam

108

dibaca seratus delapan

328

dibaca tiga ratus dua puluh delapan

251

dibaca dua ratus lima puluh satu



latihan 3

1 isilah titik titik berikut

a **203** dibaca

b **193** dibaca

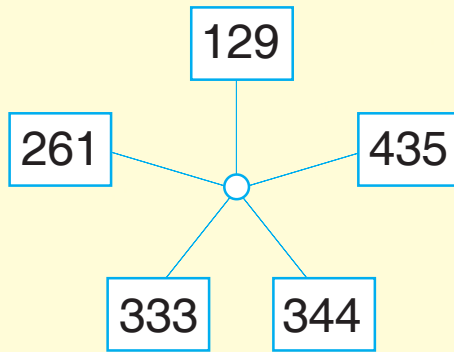
c **219** dibaca

d **375** dibaca

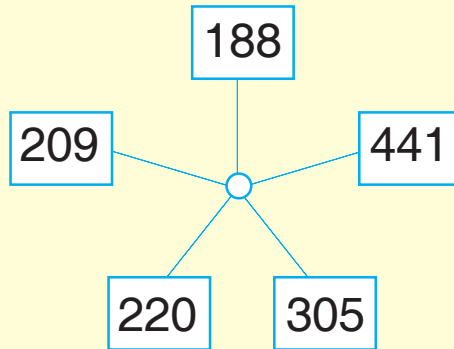
e **433** dibaca

2 bacalah lambang bilangan berikut

a



b



5 menulis lambang bilangan

perhatikan nama bilangan berikut



seratus enam puluh tujuh	ditulis 167
--------------------------	-------------

tiga ratus tiga puluh	ditulis 330
-----------------------	-------------

empat ratus sembilan	ditulis 409
----------------------	-------------



latihan 4

tuliskan lambang bilangannya


- | | | | |
|----|------------------------------|---------|-----|
| 1 | seratus dua puluh delapan | ditulis | ... |
| 2 | seratus sembilan puluh | ditulis | ... |
| 3 | dua ratus enam puluh tiga | ditulis | ... |
| 4 | dua ratus lima puluh lima | ditulis | ... |
| 5 | tiga ratus tiga puluh lima | ditulis | ... |
| 6 | tiga ratus tujuh puluh empat | ditulis | ... |
| 7 | tiga ratus delapan | ditulis | ... |
| 8 | empat ratus sembilan belas | ditulis | ... |
| 9 | empat ratus empat puluh dua | ditulis | ... |
| 10 | empat ratus tiga | ditulis | ... |

b membandingkan kumpulan benda dan bilangan



1 membandingkan kumpulan benda

apakah kamu sudah bisa membilang
sekarang bandingkan kumpulan benda



contoh




lebih banyak dari



lebih sedikit dari



sama banyak






latihan 5

bandingkan kumpulan benda berikut
gunakan lebih banyak lebih sedikit atau
sama banyak


1

a



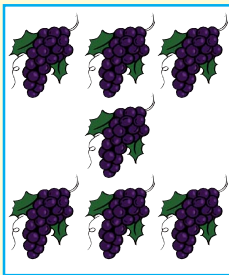
tangkai bunga a
lebih banyak
daripada tangkai
bunga b

b




2

a



buah anggur a
... daripada
buah anggur b

b



3

a




sepatu a ...
daripada sepatu b

b




4

a



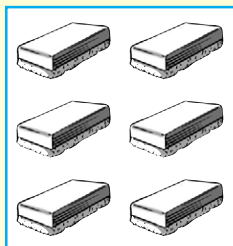
topi a ...
daripada topi b

b



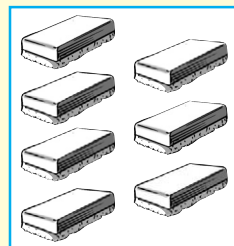
5

a



penghapus a ...
daripada
penghapus b

b



2 membandingkan bilangan

perhatikan nomor peserta sepeda santai berikut



128

124

113

106

bilangan mana yang paling besar

- lihat angka pertama dari kiri
mana yang lebih besar

- 2 jika angka pertamanya sama besar
lihat angka keduanya
- 3 jika angka keduanya sama besar
lihat angka ketiganya

ayo kita bandingkan

113 ... 269

angka pertamanya 1 lebih kecil dari 2
113 kurang dari 269

264 ... 269

angka ketiganya 4 kurang dari 9
264 kurang dari 269

264 ... 157

angka pertamanya 2 lebih dari 1
264 lebih dari 157



latihan 6

bandingkan menggunakan kata lebih dari kurang dari atau sama dengan

1 102 ... 102

2 153 ... 161

3	102	...	105
4	387	...	278
5	277	...	277
6	339	...	325
7	321	...	321
8	298	...	304
9	413	...	445
10	468	...	454

c mengurutkan bilangan

1 menyusun bilangan dari terkecil ke terbesar atau sebaliknya

perhatikan kartu bilangan berikut

132	187	123	165
-----	-----	-----	-----

berikut kartu bilangan setelah diurutkan

123	132	165	187
-----	-----	-----	-----

urutan tersebut **dari terkecil ke terbesar**



atau

187

165

132

123

urutan tersebut **dari terbesar ke terkecil**



latihan 7

a urutkan bilangan berikut ke terbesar

① 146 157 191 128 133
urutan mulai dari yang terkecil adalah

...

② 164 215 273 122 243
urutan mulai dari yang terkecil adalah

...

③ 277 312 198 243 189
urutan mulai dari yang terkecil adalah

...

④ 362 184 256 331 293
urutan mulai dari yang terbesar adalah

...

- 5 225 427 371 259 405
urutan mulai dari yang terbesar adalah

...
-----	-----	-----	-----	-----

b urutkan bilangan berikut dari terbesar ke terkecil

- 1 369 472 211 367 514
urutan mulai dari yang terbesar adalah

...
-----	-----	-----	-----	-----

- 2 349 439 394 436 294
urutan mulai dari yang terbesar adalah

...
-----	-----	-----	-----	-----

- 3 524 204 542 445 456
urutan mulai dari yang terbesar adalah

...
-----	-----	-----	-----	-----

- 4 624 596 368 507 642
urutan mulai dari yang terbesar adalah

...
-----	-----	-----	-----	-----

- 5 374 735 249 447 573
urutan mulai dari yang terbesar adalah

...
-----	-----	-----	-----	-----

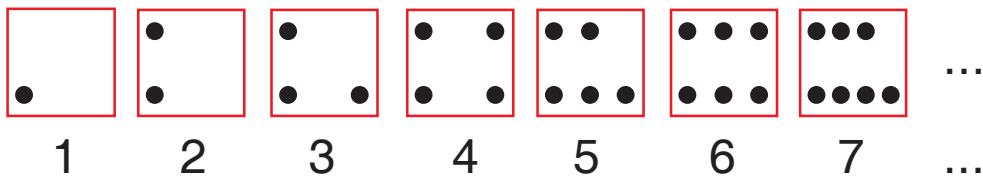


2 membedakan bilangan genap dengan bilangan ganjil



tahukah kamu bilangan genap dan ganjil

perhatikan gambar berikut



perhatikan susunan gambar pada **2 4 6**
buat gambar selanjutnya dan bilangannya

perhatikan susunan gambar pada **1 3 5 7**
buat gambar selanjutnya dan bilangannya

bilangan seperti **2 4 6 8 ...** disebut **bilangan genap**

bilangan seperti **1 3 5 7 ...** disebut **bilangan ganjil**

sebuah bilangan termasuk bilangan genap
jika angka terakhir (satuan) bilangan adalah

0 2 4 6 8


sebuah bilangan termasuk bilangan ganjil
jika angka terakhir (satuan) bilangan adalah

1 3 5 7 9



latihan 8

1 lingkari semua bilangan genap pada pohon



② urutkan bilangan genap mulai yang terkecil

... ..

③ urutkan bilangan ganjil mulai yang terbesar

... ..

④ lakukan kegiatan berikut

- a buat satu kartu bilangan dari karton
- b tulis satu bilangan 3 angka
- c 10 orang murid maju ke depan kelas
- d urutkan barisan dari terkecil

d nilai tempat

perhatikan contoh berikut

$$\begin{aligned} 187 &= 100 + 80 + 7 \\ &= 1 \text{ ratusan} + 8 \text{ puluhan} + 7 \text{ satuan} \end{aligned}$$



latihan 9

kerjakan soal soal berikut seperti pada contoh

- 1 184 = ... ratusan + ... puluhan + ... satuan
- 2 179 = ... ratusan + ... puluhan + ... satuan
- 3 201 = ... ratusan + ... puluhan + ... satuan
- 4 220 = ... ratusan + ... puluhan + ... satuan
- 5 267 = ... ratusan + ... puluhan + ... satuan
- 6 308 = ... ratusan + ... puluhan + ... satuan
- 7 335 = ... ratusan + ... puluhan + ... satuan
- 8 396 = ... ratusan + ... puluhan + ... satuan
- 9 423 = ... ratusan + ... puluhan + ... satuan
- 10 440 = ... ratusan + ... puluhan + ... satuan

perhatikan contoh berikut

$$2 \text{ ratusan} + 3 \text{ puluhan} + 8 \text{ satuan} = 238$$



latihan 10

a kerjakan seperti pada contoh

- 1 1 ratusan + 4 puluhan + 2 satuan = ...



- ② 1 ratusan + 6 puluhan + 0 satuan = ...
- ③ 2 ratusan + 5 puluhan + 7 satuan = ...
- ④ 2 ratusan + 8 puluhan + 4 satuan = ...
- ⑤ 2 ratusan + 0 puluhan + 8 satuan = ...
- ⑥ 3 ratusan + 9 puluhan + 3 satuan = ...
- ⑦ 3 ratusan + 7 puluhan + 2 satuan = ...
- ⑧ 4 ratusan + 0 puluhan + 1 satuan = ...
- ⑨ 4 ratusan + 3 puluhan + 0 satuan = ...
- ⑩ 4 ratusan + 9 puluhan + 9 satuan = ...

b kerjakan seperti pada contoh

contoh $200 + 40 + 3 = 243$

- ① $100 + 10 + 7 = \dots$
- ② $100 + 40 + 0 = \dots$
- ③ $200 + 50 + 3 = \dots$
- ④ $200 + 70 + 4 = \dots$
- ⑤ $300 + 60 + 5 = \dots$
- ⑥ $300 + 90 + 2 = \dots$
- ⑦ $300 + 0 + 7 = \dots$
- ⑧ $400 + 20 + 8 = \dots$

$$9 \quad 400 + 30 + 2 = \dots$$

$$10 \quad 500 + 50 + 0 = \dots$$

e penjumlahan

bagaimanakah membaca simbol + dan =
ayo kita pelajari bersama

1 membaca dan menggunakan simbol + dan =

contoh

adi dan dito bermain kelereng
adi membawa 17 kelereng
dito membawa 15 kelereng
berapa jumlah kelereng

jawab



dua belas
kelereng

12

ditambah

+




enam belas
kelereng

16

sama dengan

=



dua puluh
delapan

28

keterangan

simbol + artinya ditambah

simbol = artinya sama dengan



latihan 11

kerjakan seperti contoh

1






delapan bola ...	ditambah ...	enam bola ...	sama dengan ...	empat belas bola ...
------------------------	------------------------	---------------------	---------------------------	----------------------------

2





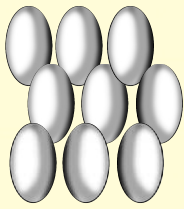
... mobil ...	ditambah mobil ...	sama dengan mobil ...
---------------------	------------------------	---------------------	---------------------------	---------------------

3



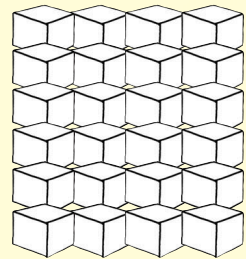
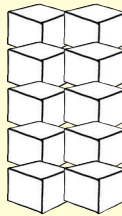
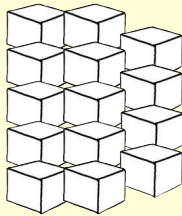
... ayam ...	ditambah ayam ...	sama dengan ayam ...
--------------------	------------------------	--------------------	---------------------------	--------------------

4



...	ditambah	...	sama dengan	...
telur		telur		telur
...

5



...	ditambah	...	sama dengan	...
kotak		kotak		kotak
...

2 menuliskan bilangan dua angka dalam bentuk panjang

perhatikan contoh berikut

$$16 = 10 + 6$$

$$32 = 30 + 2$$





latihan 12

tuliskan bilangan berikut dalam bentuk panjang

1 $13 = \dots + \dots$

2 $23 = \dots + \dots$

3 $34 = \dots + \dots$

4 $48 = \dots + \dots$

5 $50 = \dots + \dots$

6 $61 = \dots + \dots$

7 $77 = \dots + \dots$

8 $89 = \dots + \dots$

9 $92 = \dots + \dots$

10 $95 = \dots + \dots$

3 penjumlahan dua bilangan tanpa teknik menyimpan

a penjumlahan bilangan dua angka dengan dua angka

perhatikan contoh berikut

$$36 + 23 = \dots$$

jawab

cara 1

bersusun panjang

$$36 = 30 + 6$$

$$23 = 20 + 3$$

$$\begin{array}{r} 36 \\ 23 \\ \hline \end{array} +$$

$$= 50 + 9$$

$$= 59$$

jadi $36 + 23 = 59$

cara 2

bersusun pendek

$$\begin{array}{r} 36 \\ 23 \\ \hline 59 \end{array} +$$

tahap 1

satuannya $6 + 3 = 9$

tahap 2

puluhannya $3 + 2 = 5$

jadi $36 + 23 = 59$





latihan 13

a selesaikan dengan cara bersusun panjang

$$\begin{array}{r} \textcircled{1} \quad 13 = 10 + 3 \\ \quad 23 = 20 + 3 \\ \hline \quad = 30 + 6 \\ \quad = 36 \end{array} +$$

$$\begin{array}{r} \textcircled{4} \quad 44 = \dots + \dots \\ \quad 21 = \dots + \dots \\ \hline \quad = \dots + \dots \\ \quad = \dots \end{array} +$$

$$\begin{array}{r} \textcircled{2} \quad 33 = \dots + \dots \\ \quad 64 = \dots + \dots \\ \hline \quad = \dots + \dots \\ \quad = \dots \end{array} +$$

$$\begin{array}{r} \textcircled{5} \quad 68 = \dots + \dots \\ \quad 31 = \dots + \dots \\ \hline \quad = \dots + \dots \\ \quad = \dots \end{array} +$$

$$\begin{array}{r} \textcircled{3} \quad 72 = \dots + \dots \\ \quad 26 = \dots + \dots \\ \hline \quad = \dots + \dots \\ \quad = \dots \end{array} +$$

b selesaikan dengan cara bersusun pendek

$$\begin{array}{r} \textcircled{1} \quad 13 \\ \quad 23 \\ \hline \quad \dots \end{array} +$$

$$\begin{array}{r} \textcircled{2} \quad 56 \\ \quad 30 \\ \hline \quad \dots \end{array} +$$

$$\begin{array}{r} \textcircled{3} \quad 54 \\ \quad 24 \\ \hline \quad \dots \end{array} +$$

$$\begin{array}{r} \textcircled{4} \quad 25 \\ \quad 50 \\ \hline \quad \dots \end{array} +$$

$$\begin{array}{r} \textcircled{5} \quad 74 \\ \quad 15 \\ \hline \quad \dots \end{array} +$$

c kerjakan soal berikut dengan benar

1 $44 + 25 = \dots$

6 $31 + 48 = \dots$

2 $64 + 12 = \dots$

7 $18 + 71 = \dots$

3 $27 + 52 = \dots$

8 $23 + 65 = \dots$

4 $84 + 12 = \dots$

9 $54 + 25 = \dots$

5 $67 + 21 = \dots$

10 $75 + 14 = \dots$

b penjumlahan bilangan dua angka dengan tiga angka

perhatikan contoh berikut

$$145 + 14 = \dots$$

jawab

cara 1

bersusun panjang

$$145 = 100 + 40 + 5$$

$$14 = \quad \quad 10 + 4$$

$$\begin{array}{r} \hline \end{array} +$$

$$= 100 + 50 + 9$$

$$= 159$$

jadi $145 + 14 = 159$

cara 2

bersusun pendek

$$\begin{array}{r} 145 \\ + 14 \\ \hline 159 \end{array}$$

tahap 1

satuannya $5 + 4 = 9$

tahap 2

puluhannya $4 + 1 = 5$

tahap 3

ratusannya 1

jadi $145 + 14 = 159$



latihan 14

a selesaikan dengan cara bersusun panjang

$$\begin{array}{r} \textcircled{1} \quad 148 = \dots + \dots \\ \quad 21 = \dots + \dots \\ \hline \quad \quad \quad + \\ \quad \quad \quad = \dots + \dots \\ \quad \quad \quad = \dots \end{array}$$

$$\begin{array}{r} \textcircled{2} \quad 162 = \dots + \dots \\ \quad 30 = \dots + \dots \\ \hline \quad \quad \quad + \\ \quad \quad \quad = \dots + \dots \\ \quad \quad \quad = \dots \end{array}$$

$$\begin{array}{l} \textcircled{3} \quad 173 = \dots + \dots \\ \quad 26 = \dots + \dots \\ \hline \quad \quad \quad + \\ = \dots + \dots \\ = \dots \end{array}$$

$$\begin{array}{l} \textcircled{4} \quad 250 = \dots + \dots \\ \quad 17 = \dots + \dots \\ \hline \quad \quad \quad + \\ = \dots + \dots \\ = \dots \end{array}$$

$$\begin{array}{l} \textcircled{5} \quad 216 = \dots + \dots \\ \quad 62 = \dots + \dots \\ \hline \quad \quad \quad + \\ = \dots + \dots \\ = \dots \end{array}$$

$$\begin{array}{l} \textcircled{6} \quad 221 = \dots + \dots \\ \quad 54 = \dots + \dots \\ \hline \quad \quad \quad + \\ = \dots + \dots \\ = \dots \end{array}$$

b selesaikan dengan cara bersusun pendek

$$\begin{array}{l} \textcircled{1} \quad 154 \\ \quad 21 \\ \hline \quad \quad \quad + \\ \dots \end{array}$$

$$\begin{array}{l} \textcircled{2} \quad 245 \\ \quad 34 \\ \hline \quad \quad \quad + \\ \dots \end{array}$$

$$\begin{array}{l} \textcircled{3} \quad 271 \\ \quad 18 \\ \hline \quad \quad \quad + \\ \dots \end{array}$$

$$\begin{array}{l} \textcircled{4} \quad 170 \\ \quad 26 \\ \hline \quad \quad \quad + \\ \dots \end{array}$$

$$\begin{array}{l} \textcircled{5} \quad 362 \\ \quad 30 \\ \hline \quad \quad \quad + \\ \dots \end{array}$$

$$\begin{array}{l} \textcircled{6} \quad 227 \\ \quad 51 \\ \hline \quad \quad \quad + \\ \dots \end{array}$$

$$\begin{array}{l} \textcircled{7} \quad 305 \\ \quad 70 \\ \hline \quad \quad \quad + \\ \dots \end{array}$$

$$\begin{array}{l} \textcircled{8} \quad 481 \\ \quad 15 \\ \hline \quad \quad \quad + \\ \dots \end{array}$$

$$\begin{array}{l} \textcircled{9} \quad 262 \\ \quad 37 \\ \hline \quad \quad \quad + \\ \dots \end{array}$$

$$\begin{array}{l} \textcircled{10} \quad 428 \\ \quad 61 \\ \hline \quad \quad \quad + \\ \dots \end{array}$$



c kerjakan soal berikut

① $45 + 122 = \dots$

② $142 + 23 = \dots$

③ $270 + 28 = \dots$

④ $52 + 423 = \dots$

⑤ $415 + 64 = \dots$

c penjumlahan dua bilangan tiga angka

perhatikan contoh berikut

$$134 + 253 = \dots$$

jawab

cara 1

bersusun panjang

$$134 = 100 + 30 + 4$$

$$253 = 200 + 50 + 3$$

$$\begin{array}{r} 134 \\ 253 \\ \hline \end{array} +$$

$$= 300 + 80 + 7$$

$$= 387$$

jadi $134 + 253 = 387$

cara 2

bersusun pendek

$$\begin{array}{r} 1 \ 3 \ 4 \\ 2 \ 5 \ 3 \\ \hline 3 \ 8 \ 7 \end{array} +$$

langkah 1
satuannya $4 + 3 = 7$

langkah 2
puluhannya $3 + 5 = 8$

langkah 3
ratusannya $1 + 2 = 3$



latihan 15

a selesaikan dengan cara bersusun panjang

<p>① $130 = \dots + \dots + \dots$ $215 = \dots + \dots + \dots$ <hr/>$= \dots + \dots + \dots$ $= \dots$</p>	<p>② $170 = \dots + \dots + \dots$ $219 = \dots + \dots + \dots$ <hr/>$= \dots + \dots + \dots$ $= \dots$</p>
---	---

<p>③ $280 = \dots + \dots + \dots$ $114 = \dots + \dots + \dots$ <hr/>$= \dots + \dots + \dots$ $= \dots$</p>	<p>④ $316 = \dots + \dots + \dots$ $172 = \dots + \dots + \dots$ <hr/>$= \dots + \dots + \dots$ $= \dots$</p>
---	---



$$\begin{array}{r} \textcircled{5} \quad 152 = \dots + \dots + \dots \\ 324 = \dots + \dots + \dots \\ \hline + \\ = \dots + \dots + \dots \\ = \dots \end{array}$$

$$\begin{array}{r} \textcircled{6} \quad 252 = \dots + \dots + \dots \\ 506 = \dots + \dots + \dots \\ \hline + \\ = \dots + \dots + \dots \\ = \dots \end{array}$$

$$\begin{array}{r} \textcircled{7} \quad 425 = \dots + \dots + \dots \\ 111 = \dots + \dots + \dots \\ \hline + \\ = \dots + \dots + \dots \\ = \dots \end{array}$$

$$\begin{array}{r} \textcircled{8} \quad 417 = \dots + \dots + \dots \\ 152 = \dots + \dots + \dots \\ \hline + \\ = \dots + \dots + \dots \\ = \dots \end{array}$$

$$\begin{array}{r} \textcircled{9} \quad 234 = \dots + \dots + \dots \\ 201 = \dots + \dots + \dots \\ \hline + \\ = \dots + \dots + \dots \\ = \dots \end{array}$$

$$\begin{array}{r} \textcircled{10} \quad 370 = \dots + \dots + \dots \\ 225 = \dots + \dots + \dots \\ \hline + \\ = \dots + \dots + \dots \\ = \dots \end{array}$$

b selesaikan dengan cara bersusun pendek

$$\begin{array}{r} \textcircled{1} \quad 127 \\ 232 \\ \hline + \\ \dots \end{array}$$

$$\begin{array}{r} \textcircled{2} \quad 220 \\ 159 \\ \hline + \\ \dots \end{array}$$

$$\begin{array}{r} \textcircled{3} \quad 420 \\ 277 \\ \hline + \\ \dots \end{array}$$

$$\begin{array}{r} \textcircled{4} \quad 104 \\ 381 \\ \hline + \\ \dots \end{array}$$

$$\begin{array}{r} \textcircled{5} \quad 193 \\ 206 \\ \hline + \\ \dots \end{array}$$

$$\begin{array}{r} \textcircled{6} \quad 287 \\ 211 \\ \hline + \\ \dots \end{array}$$

$$\begin{array}{r} \textcircled{7} \quad 415 \\ 101 \\ \hline + \\ \dots \end{array}$$

$$\begin{array}{r} \textcircled{8} \quad 333 \\ 242 \\ \hline + \\ \dots \end{array}$$

$$\begin{array}{r} \textcircled{9} \ 305 \\ \underline{210} \\ \dots \end{array} + \begin{array}{r} \textcircled{10} \ 147 \\ \underline{422} \\ \dots \end{array}$$

c kerjakan soal berikut

- | | |
|---------------------------------------|--|
| $\textcircled{1} \ 150 + 325 = \dots$ | $\textcircled{6} \ 245 + 132 = \dots$ |
| $\textcircled{2} \ 407 + 172 = \dots$ | $\textcircled{7} \ 203 + 345 = \dots$ |
| $\textcircled{3} \ 263 + 235 = \dots$ | $\textcircled{8} \ 419 + 120 = \dots$ |
| $\textcircled{4} \ 146 + 443 = \dots$ | $\textcircled{9} \ 320 + 410 = \dots$ |
| $\textcircled{5} \ 381 + 208 = \dots$ | $\textcircled{10} \ 110 + 473 = \dots$ |

4 penjumlahan dua bilangan dengan menyimpan

a satu kali teknik penjumlahan bilangan satu angka dan dua angka

perhatikan contoh berikut

$$25 + 8 = \dots$$

1 ← simpanan

$$\begin{array}{r} 25 \\ 8 \\ \hline \end{array} +$$

3 3 — *tahap 1*

satunya $5 + 8 = 13$

tulis 3 simpan 1 pada puluhan

— *tahap 2*

puluhannya $2 + 1$ (simpanan) = 3

jadi $25 + 8 = 33$



latihan 16

selesaikan dengan cara bersusun pendek

1

$$\begin{array}{r} 57 \\ 4 \\ \hline \end{array} +$$

...

2

$$\begin{array}{r} 89 \\ 5 \\ \hline \end{array} +$$

...

3

$$\begin{array}{r} 35 \\ 6 \\ \hline \end{array} +$$

...

4

$$\begin{array}{r} 8 \\ 58 \\ \hline \end{array} +$$

...

5

$$\begin{array}{r} 78 \\ 5 \\ \hline \end{array} +$$

...

6

$$\begin{array}{r} 5 \\ 78 \\ \hline \end{array} +$$

...

7

$$\begin{array}{r} 9 \\ 53 \\ \hline \end{array} +$$

...

8

$$\begin{array}{r} 7 \\ 48 \\ \hline \end{array} +$$

...

$$\begin{array}{r} \textcircled{9} \quad 4 \\ \hline 69 \\ \dots \end{array} + \begin{array}{r} \textcircled{10} \quad 51 \\ \hline 9 \\ \dots \end{array} +$$

b penjumlahan dua bilangan dua angka

perhatikan contoh berikut

$$28 + 17 = \dots$$

cara 1

bersusun panjang

$$\begin{array}{r} 28 = 20 + 8 \\ 17 = 10 + 7 \\ \hline 30 + 15 \\ 30 + 10 + 5 \\ 40 + 5 \\ 45 \end{array} +$$



cara 2

bersusun pendek

① ← simpanan

28

17

— +

45 ————— | *tahap 1*

satunya $8 + 7 = 15$

tulis 5 simpan 1

| *tahap 2*

puluhannya $2 + 1 + 1$ (simpanan) = 4

jadi $28 + 17 = 45$

dari contoh tersebut kita simpulkan bahwa penjumlahan dengan cara bersusun panjang dan pendek mempunyai hasil yang sama



latihan 17

a selesaikan dengan cara bersusun panjang

$$\begin{array}{r}
 \textcircled{1} \quad 28 = \dots + \dots \\
 27 = \dots + \dots \\
 \hline
 + \\
 = \dots + \dots \\
 = \dots + \dots + \dots \\
 = \dots + \dots \\
 = \dots
 \end{array}$$

$$\begin{array}{r}
 \textcircled{2} \quad 39 = \dots + \dots \\
 25 = \dots + \dots \\
 \hline
 + \\
 = \dots + \dots \\
 = \dots + \dots + \dots \\
 = \dots + \dots \\
 = \dots
 \end{array}$$

$$\begin{array}{r}
 \textcircled{3} \quad 55 = \dots + \dots \\
 17 = \dots + \dots \\
 \hline
 + \\
 = \dots + \dots \\
 = \dots + \dots + \dots \\
 = \dots + \dots \\
 = \dots
 \end{array}$$

$$\begin{array}{r}
 \textcircled{4} \quad 45 = \dots + \dots \\
 48 = \dots + \dots \\
 \hline
 + \\
 = \dots + \dots \\
 = \dots + \dots + \dots \\
 = \dots + \dots \\
 = \dots
 \end{array}$$

$$\begin{array}{r}
 \textcircled{5} \quad 25 = \dots + \dots \\
 65 = \dots + \dots \\
 \hline
 + \\
 = \dots + \dots \\
 = \dots + \dots + \dots \\
 = \dots + \dots \\
 = \dots
 \end{array}$$

$$\begin{array}{r}
 \textcircled{6} \quad 13 = \dots + \dots \\
 78 = \dots + \dots \\
 \hline
 + \\
 = \dots + \dots \\
 = \dots + \dots + \dots \\
 = \dots + \dots \\
 = \dots
 \end{array}$$



b selesaikan dengan cara bersusun pendek

$$\begin{array}{r} \textcircled{1} \quad 65 \\ \quad 29 \\ \hline \dots \end{array} + \quad \begin{array}{r} \textcircled{2} \quad 26 \\ \quad 64 \\ \hline \dots \end{array} + \quad \begin{array}{r} \textcircled{3} \quad 59 \\ \quad 27 \\ \hline \dots \end{array} + \quad \begin{array}{r} \textcircled{4} \quad 56 \\ \quad 29 \\ \hline \dots \end{array}$$

$$\begin{array}{r} \textcircled{5} \quad 63 \\ \quad 19 \\ \hline \dots \end{array} + \quad \begin{array}{r} \textcircled{6} \quad 14 \\ \quad 77 \\ \hline \dots \end{array} + \quad \begin{array}{r} \textcircled{7} \quad 29 \\ \quad 53 \\ \hline \dots \end{array} + \quad \begin{array}{r} \textcircled{8} \quad 19 \\ \quad 65 \\ \hline \dots \end{array}$$

$$\begin{array}{r} \textcircled{9} \quad 39 \\ \quad 27 \\ \hline \dots \end{array} + \quad \begin{array}{r} \textcircled{10} \quad 26 \\ \quad 58 \\ \hline \dots \end{array}$$

c kerjakan soal berikut

- | | |
|---|--|
| $\textcircled{1} \quad 69 + 12 = \dots$ | $\textcircled{6} \quad 27 + 63 = \dots$ |
| $\textcircled{2} \quad 15 + 76 = \dots$ | $\textcircled{7} \quad 45 + 37 = \dots$ |
| $\textcircled{3} \quad 28 + 45 = \dots$ | $\textcircled{8} \quad 79 + 14 = \dots$ |
| $\textcircled{4} \quad 16 + 58 = \dots$ | $\textcircled{9} \quad 29 + 51 = \dots$ |
| $\textcircled{5} \quad 62 + 38 = \dots$ | $\textcircled{10} \quad 37 + 48 = \dots$ |

c penjumlahan bilangan dua angka dengan tiga angka

perhatikan contoh berikut

① $245 + 83 = \dots$

① ← simpanan

$$\begin{array}{r} 245 \\ + 83 \\ \hline 328 \end{array}$$

② $316 + 48 = \dots$

① ← simpanan

$$\begin{array}{r} 316 \\ + 48 \\ \hline 364 \end{array}$$



latihan 18

selesaikan dengan cara bersusun pendek

① 132

$$\begin{array}{r} 74 \\ \hline + \\ \dots \end{array}$$

② 149

$$\begin{array}{r} 35 \\ \hline + \\ \dots \end{array}$$

③ 225

$$\begin{array}{r} 45 \\ \hline + \\ \dots \end{array}$$

④ 238

$$\begin{array}{r} 44 \\ \hline + \\ \dots \end{array}$$

⑤ 45

$$\begin{array}{r} 173 \\ \hline + \\ \dots \end{array}$$

⑥ 246

$$\begin{array}{r} 17 \\ \hline + \\ \dots \end{array}$$

⑦ 470

$$\begin{array}{r} 76 \\ \hline + \\ \dots \end{array}$$

⑧ 162

$$\begin{array}{r} 84 \\ \hline + \\ \dots \end{array}$$

⑨ 408

$$\begin{array}{r} 55 \\ \hline + \\ \dots \end{array}$$

⑩ 391

$$\begin{array}{r} 64 \\ \hline + \\ \dots \end{array}$$



d penjumlahan dua bilangan tiga angka

perhatikan contoh berikut

$$124 + 256 = \dots$$

1 ← simpanan

$$\begin{array}{r} 124 \\ 256 \\ \hline 380 \end{array} +$$

tahap 1
satuannya $4 + 6 = 10$
tuliskan 0 dan simpan 1

tahap 2
puluhannya $2 + 5 + 1$ (simpanan) = 8

tahap 3
jumlahkan ratusannya $1 + 2 = 3$



latihan 19

a selesaikan dengan cara bersusun pendek

1	246	2	167	3	308	4	295
	129		251		146		233
	_____ +		_____ +		_____ +		_____ +

$\begin{array}{r} \textcircled{5} \ 168 \\ \underline{351} \\ \dots \end{array} +$	$\begin{array}{r} \textcircled{6} \ 225 \\ \underline{127} \\ \dots \end{array} +$	$\begin{array}{r} \textcircled{7} \ 284 \\ \underline{127} \\ \dots \end{array} +$	$\begin{array}{r} \textcircled{8} \ 150 \\ \underline{376} \\ \dots \end{array} +$
$\begin{array}{r} \textcircled{9} \ 247 \\ \underline{238} \\ \dots \end{array} +$	$\begin{array}{r} \textcircled{10} \ 382 \\ \underline{174} \\ \dots \end{array} +$		

b selesaikan penjumlahan berikut

$\textcircled{1} \ 161 + 147 = \dots$	$\textcircled{6} \ 207 + 144 = \dots$
$\textcircled{2} \ 172 + 284 = \dots$	$\textcircled{7} \ 158 + 235 = \dots$
$\textcircled{3} \ 195 + 263 = \dots$	$\textcircled{8} \ 376 + 216 = \dots$
$\textcircled{4} \ 250 + 276 = \dots$	$\textcircled{9} \ 109 + 248 = \dots$
$\textcircled{5} \ 362 + 192 = \dots$	$\textcircled{10} \ 470 + 167 = \dots$

e penjumlahan tiga bilangan

perhatikan contoh berikut

$$22 + 34 + 18 = \dots$$



$$\begin{array}{r}
 22 \\
 34 \\
 18 \\
 \hline
 74
 \end{array} +$$

tahap 1
satuannya $2 + 4 + 8 = 14$
tulis 4 simpan 1

tahap 2
puluhannya $1 \text{ (simpan)} + 2 + 3 + 1 = 7$



latihan 20

a selesaikan dengan cara bersusun pendek

①	52	②	15	③	34	④	25
	28		28		37		36
	17		43		18		13
	— +		— +		— +		— +

⑤	22	⑥	37	⑦	60	⑧	57
	45		18		19		10
	26		32		12		12
	— +		— +		— +		— +

$$\begin{array}{r} \textcircled{9} \quad 24 \\ \quad 27 \\ \quad 47 \\ \hline \dots \end{array} + \quad \begin{array}{r} \textcircled{10} \quad 48 \\ \quad 14 \\ \quad 25 \\ \hline \dots \end{array} +$$

b kerjakan soal berikut

- | | |
|--|---|
| $\textcircled{1} \quad 13 + 31 + 53 = \dots$ | $\textcircled{6} \quad 56 + 27 + 11 = \dots$ |
| $\textcircled{2} \quad 42 + 19 + 24 = \dots$ | $\textcircled{7} \quad 22 + 57 + 19 = \dots$ |
| $\textcircled{3} \quad 15 + 34 + 23 = \dots$ | $\textcircled{8} \quad 51 + 30 + 29 = \dots$ |
| $\textcircled{4} \quad 53 + 22 + 16 = \dots$ | $\textcircled{9} \quad 26 + 21 + 19 = \dots$ |
| $\textcircled{5} \quad 46 + 12 + 32 = \dots$ | $\textcircled{10} \quad 54 + 18 + 27 = \dots$ |

5 menyelesaikan soal cerita

untuk menyelesaikan soal cerita
ubah ke dalam kalimat matematika

perhatikan contoh berikut

buku pertama terdapat 108 halaman
buku kedua terdapat 72 halaman
ada berapa halaman kedua buku tersebut



jawab

kalimat matematikanya

$$108 + 72 = \dots$$

$$\begin{array}{r} 108 \\ + 72 \\ \hline 180 \end{array}$$

1 ← simpanan

jadi jumlahnya 180 halaman



latihan 21

selesaikan soal berikut

- 1 selama 2 bulan mina meminjam 35 buku
selama 3 bulan dina meminjam 109 buku
berapa jumlah buku yang dipinjam keduanya
- 2 ami membeli pita sepanjang 238 cm
kemudian lili diberinya pita sepanjang 47 cm
berapa panjang pita ami sekarang
- 3 hari kamis laku 318 kelereng
hari jumat laku 46 kelereng
berapa jumlah kelereng yang terjual
- 4 ibu membuat 97 kue
bibi membuat 262 kue
berapa jumlah kue keduanya

- 5 pabrik sepatu membuat 185 sepatu sekolah dan 218 sepatu olahraga
berapa jumlah sepatu yang dibuat
- 6 toko buku menjual 137 buku matematika juga menjual 92 buku pkn dan menjual 128 buku bahasa indonesia
berapa jumlah buku yang dijual
- 7 hari ini bus makmur mengantar penumpang sebanyak 153 orang kemarin mengantar 165 penumpang
berapa jumlah penumpang yang diantar bus selama 2 hari
- 8 paman beternak 54 sapi 173 kambing juga memiliki 106 domba
berapa jumlah ternak paman
- 9 ina menggambar 112 bunga serly juga menggambar 128 bunga
berapa jumlah gambar bunga mereka berdua
- 10 penjahit mempunyai 193 butir kancing ia membeli 265 butir kancing lagi
berapa jumlah kancing penjahit



f pengurangan

1 pengurangan tanpa teknik meminjam

- a pengurangan dua bilangan dua angka
perhatikan contoh berikut

$$45 - 34 = \dots$$

jawab

cara 1

bersusun panjang

$$\begin{array}{r} 45 = 40 + 5 \\ 34 = 30 + 4 \\ \hline = 10 + 1 \\ = 11 \end{array}$$

cara 2

bersusun pendek

$$\begin{array}{r} 45 \\ 34 \\ \hline 11 \end{array}$$

tahap 1
satunya $5 - 4 = 1$

tahap 2
puluhannya $4 - 3 = 1$

jadi $45 - 34 = 11$



latihan 22

a selesaikan dengan cara bersusun panjang

$$\begin{array}{r} \textcircled{1} \quad 67 = \dots + \dots \\ \quad 23 = \dots + \dots \\ \hline = \dots + \dots \\ = \dots \end{array}$$

$$\begin{array}{r} \textcircled{2} \quad 75 = \dots + \dots \\ \quad 43 = \dots + \dots \\ \hline = \dots + \dots \\ = \dots \end{array}$$

$$\begin{array}{r} \textcircled{3} \quad 56 = \dots + \dots \\ \quad 14 = \dots + \dots \\ \hline = \dots + \dots \\ = \dots \end{array}$$

$$\begin{array}{r} \textcircled{4} \quad 84 = \dots + \dots \\ \quad 64 = \dots + \dots \\ \hline = \dots + \dots \\ = \dots \end{array}$$

$$\begin{array}{r} \textcircled{5} \quad 79 = \dots + \dots \\ \quad 27 = \dots + \dots \\ \hline = \dots + \dots \\ = \dots \end{array}$$

$$\begin{array}{r} \textcircled{6} \quad 87 = \dots + \dots \\ \quad 55 = \dots + \dots \\ \hline = \dots + \dots \\ = \dots \end{array}$$

$$\begin{array}{r} \textcircled{7} \quad 48 = \dots + \dots \\ \quad 31 = \dots + \dots \\ \hline = \dots + \dots \\ = \dots \end{array}$$

$$\begin{array}{r} \textcircled{8} \quad 66 = \dots + \dots \\ \quad 45 = \dots + \dots \\ \hline = \dots + \dots \\ = \dots \end{array}$$



$$\begin{array}{r} \textcircled{9} \quad 98 = \dots + \dots \\ 52 = \dots + \dots \\ \hline = \dots + \dots \\ = \dots \end{array}$$

$$\begin{array}{r} \textcircled{10} \quad 95 = \dots + \dots \\ 74 = \dots + \dots \\ \hline = \dots + \dots \\ = \dots \end{array}$$

b selesaikan dengan cara bersusun pendek

$$\begin{array}{r} \textcircled{1} \quad 59 \\ 27 \\ \hline \end{array}$$

$$\begin{array}{r} \textcircled{2} \quad 85 \\ 23 \\ \hline \end{array}$$

$$\begin{array}{r} \textcircled{3} \quad 46 \\ 12 \\ \hline \end{array}$$

$$\begin{array}{r} \textcircled{4} \quad 67 \\ 34 \\ \hline \end{array}$$

...

...

...

...

$$\begin{array}{r} \textcircled{5} \quad 38 \\ 25 \\ \hline \end{array}$$

$$\begin{array}{r} \textcircled{6} \quad 99 \\ 46 \\ \hline \end{array}$$

$$\begin{array}{r} \textcircled{7} \quad 74 \\ 32 \\ \hline \end{array}$$

$$\begin{array}{r} \textcircled{8} \quad 87 \\ 55 \\ \hline \end{array}$$

...

...

...

...

$$\begin{array}{r} \textcircled{9} \quad 53 \\ 11 \\ \hline \end{array}$$

$$\begin{array}{r} \textcircled{10} \quad 78 \\ 36 \\ \hline \end{array}$$

...

...



latihan 23

selesaikan pengurangan berikut

$$\textcircled{1} \quad 67 - 43 = \dots$$

$$\textcircled{3} \quad 59 - 25 = \dots$$

$$\textcircled{2} \quad 85 - 21 = \dots$$

$$\textcircled{4} \quad 84 - 33 = \dots$$

$$\textcircled{5} \quad 56 - 14 = \dots$$

$$\textcircled{8} \quad 65 - 12 = \dots$$

$$\textcircled{6} \quad 94 - 32 = \dots$$

$$\textcircled{9} \quad 78 - 41 = \dots$$

$$\textcircled{7} \quad 78 - 55 = \dots$$

$$\textcircled{10} \quad 96 - 54 = \dots$$

b pengurangan bilangan dua angka dari bilangan tiga angka

perhatikan contoh berikut

$$278 - 64 = \dots$$

jawab

cara 1

bersusun panjang

$$\begin{array}{r} 278 = 200 + 70 + 8 \\ 64 = \quad \quad \quad 60 + 4 \\ \hline = 200 + 10 + 4 \\ = 214 \end{array}$$

cara 2

bersusun pendek

2 7 8

6 4

2 1 4 — | *tahap 1*

satuannya $8 - 4 = 4$

| — | *tahap 2*

puluhannya $7 - 6 = 1$

| — | *tahap 3*

ratusannya simpan 2 di ratusan

jadi $278 - 64 = 214$



latihan 24

a selesaikan dengan cara bersusun panjang

$$\begin{array}{r} \textcircled{1} \quad 147 = \dots + \dots + \dots \\ \quad 23 = \dots + \dots + \dots \\ \hline = \dots + \dots + \dots \\ = \dots \end{array}$$

$$\begin{array}{r} \textcircled{2} \quad 390 = \dots + \dots + \dots \\ \quad 70 = \dots + \dots + \dots \\ \hline = \dots + \dots + \dots \\ = \dots \end{array}$$

$$\begin{array}{r} \textcircled{3} \quad 275 = \dots + \dots + \dots \\ \quad 42 = \dots + \dots + \dots \\ \hline = \dots + \dots + \dots \\ = \dots \end{array}$$

$$\begin{array}{r} \textcircled{7} \quad 168 = \dots + \dots + \dots \\ \quad 52 = \dots + \dots + \dots \\ \hline = \dots + \dots + \dots \\ = \dots \end{array}$$

$$\begin{array}{r} \textcircled{4} \quad 459 = \dots + \dots + \dots \\ \quad 35 = \dots + \dots + \dots \\ \hline = \dots + \dots + \dots \\ = \dots \end{array}$$

$$\begin{array}{r} \textcircled{8} \quad 297 = \dots + \dots + \dots \\ \quad 45 = \dots + \dots + \dots \\ \hline = \dots + \dots + \dots \\ = \dots \end{array}$$

$$\begin{array}{r} \textcircled{5} \quad 486 = \dots + \dots + \dots \\ \quad 64 = \dots + \dots + \dots \\ \hline = \dots + \dots + \dots \\ = \dots \end{array}$$

$$\begin{array}{r} \textcircled{9} \quad 285 = \dots + \dots + \dots \\ \quad 60 = \dots + \dots + \dots \\ \hline = \dots + \dots + \dots \\ = \dots \end{array}$$

$$\begin{array}{r} \textcircled{6} \quad 454 = \dots + \dots + \dots \\ \quad 32 = \dots + \dots + \dots \\ \hline = \dots + \dots + \dots \\ = \dots \end{array}$$

$$\begin{array}{r} \textcircled{10} \quad 498 = \dots + \dots + \dots \\ \quad 74 = \dots + \dots + \dots \\ \hline = \dots + \dots + \dots \\ = \dots \end{array}$$

b kerjakan pengurangan berikut

$$\textcircled{1} \quad 375 - 42 = \dots$$

$$\textcircled{6} \quad 179 - 15 = \dots$$

$$\textcircled{2} \quad 257 - 13 = \dots$$

$$\textcircled{7} \quad 299 - 75 = \dots$$

$$\textcircled{3} \quad 489 - 70 = \dots$$

$$\textcircled{8} \quad 250 - 20 = \dots$$

$$\textcircled{4} \quad 296 - 45 = \dots$$

$$\textcircled{9} \quad 369 - 47 = \dots$$

$$\textcircled{5} \quad 476 - 55 = \dots$$

$$\textcircled{10} \quad 465 - 41 = \dots$$



c pengurangan dua bilangan tiga angka

perhatikan contoh berikut

$$357 - 125 = \dots$$

jawab

cara 1

bersusun panjang

$$\begin{array}{r} 357 = 300 + 50 + 7 \\ 125 = 100 + 20 + 5 \\ \hline = 200 + 30 + 2 \\ = 232 \end{array}$$

cara 2

bersusun pendek

$$\begin{array}{r} 3 \ 5 \ 7 \\ 1 \ 2 \ 5 \\ \hline \end{array}$$

2 3 2 — | *tahap 1*
 satunya $7 - 5 = 2$

 | *tahap 2*
 puluhannya $5 - 2 = 3$

 | *tahap 3*
 ratusannya $3 - 1 = 2$

jadi $357 - 125 = 232$



latihan 25

a selesaikan dengan cara bersusun panjang

$$\begin{array}{r} \textcircled{1} \quad 176 = \dots + \dots + \dots \\ 121 = \dots + \dots + \dots \\ \hline \\ = \dots + \dots + \dots \\ = \dots \end{array}$$

$$\begin{array}{r} \textcircled{5} \quad 472 = \dots + \dots + \dots \\ 251 = \dots + \dots + \dots \\ \hline \\ = \dots + \dots + \dots \\ = \dots \end{array}$$

$$\begin{array}{r} \textcircled{2} \quad 286 = \dots + \dots + \dots \\ 153 = \dots + \dots + \dots \\ \hline \\ = \dots + \dots + \dots \\ = \dots \end{array}$$

$$\begin{array}{r} \textcircled{6} \quad 468 = \dots + \dots + \dots \\ 345 = \dots + \dots + \dots \\ \hline \\ = \dots + \dots + \dots \\ = \dots \end{array}$$

$$\begin{array}{r} \textcircled{3} \quad 278 = \dots + \dots + \dots \\ 260 = \dots + \dots + \dots \\ \hline \\ = \dots + \dots + \dots \\ = \dots \end{array}$$

$$\begin{array}{r} \textcircled{7} \quad 495 = \dots + \dots + \dots \\ 454 = \dots + \dots + \dots \\ \hline \\ = \dots + \dots + \dots \\ = \dots \end{array}$$

$$\begin{array}{r} \textcircled{4} \quad 365 = \dots + \dots + \dots \\ 142 = \dots + \dots + \dots \\ \hline \\ = \dots + \dots + \dots \\ = \dots \end{array}$$

$$\begin{array}{r} \textcircled{8} \quad 369 = \dots + \dots + \dots \\ 222 = \dots + \dots + \dots \\ \hline \\ = \dots + \dots + \dots \\ = \dots \end{array}$$



$$\begin{array}{r} \textcircled{9} \quad 380 = \dots + \dots + \dots \\ 210 = \dots + \dots + \dots \\ \hline = \dots + \dots + \dots \\ = \dots \end{array}$$

$$\begin{array}{r} \textcircled{10} \quad 490 = \dots + \dots + \dots \\ 460 = \dots + \dots + \dots \\ \hline = \dots + \dots + \dots \\ = \dots \end{array}$$

b selesaikan dengan cara bersusun pendek

$$\textcircled{1} \quad \begin{array}{r} 169 \\ 115 \\ \hline \end{array}$$

$$\textcircled{2} \quad \begin{array}{r} 254 \\ 104 \\ \hline \end{array}$$

$$\textcircled{3} \quad \begin{array}{r} 293 \\ 210 \\ \hline \end{array}$$

$$\textcircled{4} \quad \begin{array}{r} 368 \\ 153 \\ \hline \end{array}$$

...

...

...

...

$$\textcircled{5} \quad \begin{array}{r} 284 \\ 112 \\ \hline \end{array}$$

$$\textcircled{6} \quad \begin{array}{r} 477 \\ 254 \\ \hline \end{array}$$

$$\textcircled{7} \quad \begin{array}{r} 394 \\ 233 \\ \hline \end{array}$$

$$\textcircled{8} \quad \begin{array}{r} 266 \\ 121 \\ \hline \end{array}$$

...

...

...

...

$$\textcircled{9} \quad \begin{array}{r} 375 \\ 242 \\ \hline \end{array}$$

$$\textcircled{10} \quad \begin{array}{r} 499 \\ 256 \\ \hline \end{array}$$

...

...

c kerjakan dengan cara yang dianggap mudah

$$\textcircled{1} \quad 173 - 152 = \dots$$

$$\textcircled{6} \quad 376 - 351 = \dots$$

$$\textcircled{2} \quad 276 - 203 = \dots$$

$$\textcircled{7} \quad 298 - 246 = \dots$$

$$\textcircled{3} \quad 294 - 171 = \dots$$

$$\textcircled{8} \quad 427 - 310 = \dots$$

$$\textcircled{4} \quad 257 - 115 = \dots$$

$$\textcircled{9} \quad 469 - 237 = \dots$$

$$\textcircled{5} \quad 396 - 165 = \dots$$

$$\textcircled{10} \quad 479 - 364 = \dots$$

2 pengurangan dengan satu kali teknik meminjam

a pengurangan dua bilangan dua angka

perhatikan contoh

$$56 - 28 = \dots$$

jawab

cara 1

bersusun panjang

$$\begin{array}{r} 56 = 50 + 6 \\ 28 = 20 + 8 \\ \hline \end{array}$$

6 tidak bisa dikurangi dengan 8
pinjam 1 puluhan (10) dari 56
sehingga dapat ditulis

$$\begin{array}{r} 56 = 40 + 16 \\ 28 = 20 + 8 \\ \hline = 20 + 8 \\ = 28 \end{array}$$

cara 2

bersusun pendek

$$\begin{array}{r} 16 \\ 56 \\ 28 \\ \hline 28 \end{array}$$

tahap 1

6 tidak bisa dikurangi dengan 8
pinjam 1 puluhan (10) dari 56
sehingga $16 - 8 = 8$

tahap 2

5 puluhan telah dipinjam 1 puluhan
tinggal 4 puluhan sehingga $4 - 2 = 2$

jadi $56 - 28 = 28$



latihan 26

a selesaikan dengan cara bersusun pendek

$$\begin{array}{r} \textcircled{1} \quad 73 \\ \quad 28 \\ \hline \end{array}$$

...

$$\begin{array}{r} \textcircled{2} \quad 51 \\ \quad 26 \\ \hline \end{array}$$

...

$$\begin{array}{r} \textcircled{3} \quad 84 \\ \quad 37 \\ \hline \end{array}$$

...

$$\begin{array}{r} \textcircled{4} \quad 62 \\ \quad 49 \\ \hline \end{array}$$

...

$$\begin{array}{r} \textcircled{5} \quad 70 \\ \quad 37 \\ \hline \end{array}$$

...

$$\begin{array}{r} \textcircled{6} \quad 97 \\ \quad 58 \\ \hline \end{array}$$

...

$$\begin{array}{r} \textcircled{7} \quad 52 \\ \quad 27 \\ \hline \end{array}$$

...

$$\begin{array}{r} \textcircled{8} \quad 73 \\ \quad 45 \\ \hline \end{array}$$

...

$$\begin{array}{r} \textcircled{9} \quad 73 \\ \quad 45 \\ \hline \end{array}$$

...

$$\begin{array}{r} \textcircled{10} \quad 62 \\ \quad 33 \\ \hline \end{array}$$

...

b kerjakan dengan cara yang dianggap mudah

$$\textcircled{1} \quad 83 - 29 = \dots$$

$$\textcircled{6} \quad 82 - 57 = \dots$$

$$\textcircled{2} \quad 60 - 48 = \dots$$

$$\textcircled{7} \quad 76 - 49 = \dots$$

$$\textcircled{3} \quad 55 - 36 = \dots$$

$$\textcircled{8} \quad 93 - 67 = \dots$$

$$\textcircled{4} \quad 96 - 57 = \dots$$

$$\textcircled{9} \quad 87 - 39 = \dots$$

$$\textcircled{5} \quad 71 - 38 = \dots$$

$$\textcircled{10} \quad 96 - 48 = \dots$$

b pengurangan bilangan dua angka dari bilangan tiga angka

perhatikan contoh

$$264 - 46 = \dots$$

jawab

cara 1

bersusun panjang

$$\begin{array}{r} 264 = 200 + 60 + 4 \\ 46 = \quad 40 + 6 \\ \hline \end{array}$$

4 tidak bisa dikurangi dengan 6
pinjam 1 puluhan (10) dari 14
sehingga dapat ditulis

$$\begin{array}{r} 264 = 200 + 50 + 14 \\ 46 = \quad 40 + 6 \\ \hline = 200 + 10 + 8 \\ = 218 \end{array}$$

cara 2

bersusun pendek

$$\begin{array}{r} 18 \\ 264 \\ 46 \\ \hline 218 \end{array}$$

tahap 1

4 tidak bisa dikurangi dengan 6
pinjam 1 puluhan (10) dari 6 puluhan
sehingga $14 - 6 = 8$

tahap 2

6 puluhan telah dipinjam 1 puluhan
tinggal 5 puluhan sehingga $5 - 4 = 1$

tahap 3

tuliskan 2 di tempat ratusan

jadi $264 - 46 = 218$





latihan 27

a kerjakan dengan cara bersusun panjang

$$\begin{array}{r} \textcircled{1} \quad 275 = \dots + \dots + \dots \\ \quad 48 = \dots + \dots + \dots \\ \hline = \dots + \dots + \dots \\ = \dots \end{array}$$

$$\begin{array}{r} \textcircled{2} \quad 360 = \dots + \dots + \dots \\ \quad 58 = \dots + \dots + \dots \\ \hline = \dots + \dots + \dots \\ = \dots \end{array}$$

$$\begin{array}{r} \textcircled{3} \quad 283 = \dots + \dots + \dots \\ \quad 57 = \dots + \dots + \dots \\ \hline = \dots + \dots + \dots \\ = \dots \end{array}$$

$$\begin{array}{r} \textcircled{4} \quad 483 = \dots + \dots + \dots \\ \quad 66 = \dots + \dots + \dots \\ \hline = \dots + \dots + \dots \\ = \dots \end{array}$$

$$\begin{array}{r} \textcircled{5} \quad 375 = \dots + \dots + \dots \\ \quad 48 = \dots + \dots + \dots \\ \hline = \dots + \dots + \dots \\ = \dots \end{array}$$

$$\begin{array}{r} \textcircled{6} \quad 291 = \dots + \dots + \dots \\ \quad 73 = \dots + \dots + \dots \\ \hline = \dots + \dots + \dots \\ = \dots \end{array}$$

$$\begin{array}{r} \textcircled{7} \quad 377 = \dots + \dots + \dots \\ \quad 59 = \dots + \dots + \dots \\ \hline = \dots + \dots + \dots \\ = \dots \end{array}$$

$$\begin{array}{r} \textcircled{8} \quad 393 = \dots + \dots + \dots \\ \quad 75 = \dots + \dots + \dots \\ \hline = \dots + \dots + \dots \\ = \dots \end{array}$$

$\begin{array}{r} \textcircled{9} \quad 452 = \dots + \dots + \dots \\ \quad 37 = \dots + \dots + \dots \\ \hline = \dots + \dots + \dots \\ = \dots \end{array}$	$\begin{array}{r} \textcircled{10} \quad 488 = \dots + \dots + \dots \\ \quad 29 = \dots + \dots + \dots \\ \hline = \dots + \dots + \dots \\ = \dots \end{array}$
---	--

b kerjakan dengan cara bersusun panjang

$\begin{array}{r} \textcircled{1} \quad 196 \\ \quad 58 \\ \hline \dots \end{array}$	$\begin{array}{r} \textcircled{2} \quad 451 \\ \quad 39 \\ \hline \dots \end{array}$	$\begin{array}{r} \textcircled{3} \quad 145 \\ \quad 38 \\ \hline \dots \end{array}$	$\begin{array}{r} \textcircled{4} \quad 275 \\ \quad 58 \\ \hline \dots \end{array}$
$\begin{array}{r} \textcircled{5} \quad 261 \\ \quad 35 \\ \hline \dots \end{array}$	$\begin{array}{r} \textcircled{6} \quad 382 \\ \quad 67 \\ \hline \dots \end{array}$	$\begin{array}{r} \textcircled{7} \quad 371 \\ \quad 39 \\ \hline \dots \end{array}$	$\begin{array}{r} \textcircled{8} \quad 360 \\ \quad 43 \\ \hline \dots \end{array}$
$\begin{array}{r} \textcircled{9} \quad 462 \\ \quad 47 \\ \hline \dots \end{array}$	$\begin{array}{r} \textcircled{10} \quad 452 \\ \quad 37 \\ \hline \dots \end{array}$		

c kerjakan dengan cara yang dianggap mudah

$\textcircled{1} \quad 237 - 88 = \dots$	$\textcircled{6} \quad 124 - 58 = \dots$
$\textcircled{2} \quad 201 - 49 = \dots$	$\textcircled{7} \quad 117 - 36 = \dots$
$\textcircled{3} \quad 168 - 75 = \dots$	$\textcircled{8} \quad 342 - 95 = \dots$
$\textcircled{4} \quad 439 - 97 = \dots$	$\textcircled{9} \quad 224 - 86 = \dots$
$\textcircled{5} \quad 315 - 66 = \dots$	$\textcircled{10} \quad 402 - 97 = \dots$



c pengurangan dua bilangan tiga angka

perhatikan contoh

$$262 - 147 = \dots$$

jawab

cara bersusun pendek

$$\begin{array}{r} 12 \\ 262 \\ - 147 \\ \hline 115 \end{array}$$

tahap 1

2 tidak bisa dikurangi dengan 7
pinjam 1 puluhan (10) dari 6 puluhan
sehingga $12 - 7 = 5$

tahap 2

6 puluhan telah dipinjam 1 puluhan
tinggal 5 puluhan sehingga $5 - 4 = 1$

tahap 3

ratusannya $2 - 1 = 1$

jadi $262 - 147 = 115$



latihan 28

kerjakan dengan cara bersusun panjang

$$\begin{array}{r} \textcircled{1} \quad 293 \\ \quad 176 \\ \hline \dots \end{array}$$

$$\begin{array}{r} \textcircled{2} \quad 334 \\ \quad 125 \\ \hline \dots \end{array}$$

$$\begin{array}{r} \textcircled{3} \quad 391 \\ \quad 272 \\ \hline \dots \end{array}$$

$$\begin{array}{r} \textcircled{4} \quad 219 \\ \quad 138 \\ \hline \dots \end{array}$$

$$\begin{array}{r} \textcircled{5} \quad 377 \\ \quad 148 \\ \hline \dots \end{array}$$

$$\begin{array}{r} \textcircled{6} \quad 425 \\ \quad 207 \\ \hline \dots \end{array}$$

$$\begin{array}{r} \textcircled{7} \quad 262 \\ \quad 136 \\ \hline \dots \end{array}$$

$$\begin{array}{r} \textcircled{8} \quad 394 \\ \quad 149 \\ \hline \dots \end{array}$$

$$\begin{array}{r} \textcircled{9} \quad 493 \\ \quad 358 \\ \hline \dots \end{array}$$

$$\begin{array}{r} \textcircled{10} \quad 444 \\ \quad 226 \\ \hline \dots \end{array}$$

d pengurangan tiga bilangan berturut turut
perhatikan contoh berikut

$$66 - 28 - 19 = \dots$$

jawab

$$\begin{array}{r} \textcircled{16} \\ 66 \\ 28 \\ \hline 38 \end{array} -$$

tahap 1

kurangkan bilangan pertama dengan
bilangan kedua



$$\begin{array}{r} 38 \\ 19 \\ \hline 17 \end{array} -$$

tahap 2

kurangkan hasil tahap 1 dengan
bilangan ketiga

jadi $66 - 28 - 19 = 19$



latihan 29

kerjakan dengan cara yang dianggap mudah

① $281 - 113 - 59 = \dots$

② $350 - 68 - 135 = \dots$

③ $320 - 135 - 66 = \dots$

④ $217 - 26 - 175 = \dots$

⑤ $349 - 82 - 124 = \dots$

3 menyelesaikan soal cerita

kamu telah belajar cara menyelesaikan
soal cerita pada penjumlahan
sekarang kita belajar cara menyelesaikan
soal cerita pada pengurangan

perhatikan contoh berikut

ibu membeli 432 buah pita
sebanyak 219 pita bernama kuning
berapa jumlah pita yang bukan kuning

jawab

kalimat matematikanya:

$$432 - 219 = \dots$$

cara penyelesaiannya

$$\begin{array}{r} 432 \\ 219 \\ \hline 213 \end{array}$$

jadi pita yang bukan kuning ada 213 buah



berpikir kritis

lanjutkan urutan bilangan berikut

11 9 7 apakah bilangan tersebut ganjil

10 8 6 apakah bilangan tersebut genap

apakah 0 bilangan genap



kegiatan

ambil tiga buku pelajaran
berapa jumlah halamannya
berapa selisih halamannya



r a n g k u m a n

lingkari yang telah dipelajari

no	materi yang dipelajari
1	membilang urut
2	menyebutkan banyak benda
3	membilang loncat
4	membaca lambang bilangan
5	membandingkan kumpulan benda
6	membandingkan dan mengurutkan bilangan
7	menyebutkan bilangan genap dan ganjil
8	nilai tempat
9	penjumlahan tanpa teknik menyimpan dan teknik menyimpan
10	pengurangan tanpa teknik meminjam dan teknik meminjam
11	menyelesaikan soal cerita



evaluasi

a isilah titik titik berikut dengan jawaban yang tepat

1 $296 = \dots$ ratusan + \dots puluhan + \dots satuan

2 $300 + 10 + 8 = \dots$

3 $293 + 136 = \dots$

4 $246 + 43 - 174 = \dots$

5 $428 - 246 + 403 = \dots$

6 294

$$\begin{array}{r} 65 \\ \hline \end{array} +$$

...

7 $223 = \dots + \dots + \dots$

$$176 = \dots + \dots + \dots$$

$$\begin{array}{r} \hline \end{array} +$$

$= \dots + \dots + \dots$
 $= \dots$

8 348

$$\begin{array}{r} 64 \\ \hline \end{array} -$$

...

9 $245 - 136 = \dots$

10 $326 - 118 - 86 = \dots$

11 angka 4 pada bilangan 349 menempati tempat ...



- 12 bentuk panjang bilangan 127 adalah ...
- 13 kalimat pengurangan $54 - 12 = 32$ diubah kalimat penjumlahan menjadi ...
- 14 $220 + \dots = 300$ bilangan yang tepat mengisi titik titik adalah ...
- 15 $394 \dots 106$
tanda operasi yang tepat untuk operasi tersebut adalah ...

b kerjakan soal cerita berikut

- 1 jumlah murid di sdn rahayu 235 orang
jumlah murid laki-laki sebanyak 123 orang
berapa jumlah murid perempuan
- 2 pak ogah mempunyai 259 pohon apel
pohon apel yang dipanen sebanyak 148
berapa jumlah pohon apel yang belum dipanen
- 3 pak sakri mengangkut 374 batu bata
sorenya mengangkut lagi 126 buah batu bata
berapa batu bata yang belum diangkut
- 4 ratih mempunyai buku sebanyak 235 buku
dipinjam temannya 124 buku
berapa buah buku ratih yang ada
- 5 peserta lomba jalan santai ada 372 anak
sebanyak 64 peserta mendaftar lagi
berapa peserta yang mengikuti jalan santai tersebut



refleksi

materi yang perlu dipelajari lebih tekun

no	materi yang dipelajari
1	membilang urut
2	menyebutkan banyak benda
3	membilang loncat
4	membaca lambang bilangan
5	membandingkan kumpulan benda
6	membandingkan dan mengurutkan bilangan
7	menyebutkan bilangan genap dan ganjil
8	nilai tempat
9	penjumlahan tanpa teknik menyimpan dan teknik menyimpan
10	pengurangan tanpa teknik meminjam dan teknik meminjam
11	menyelesaikan soal cerita



pengukuran

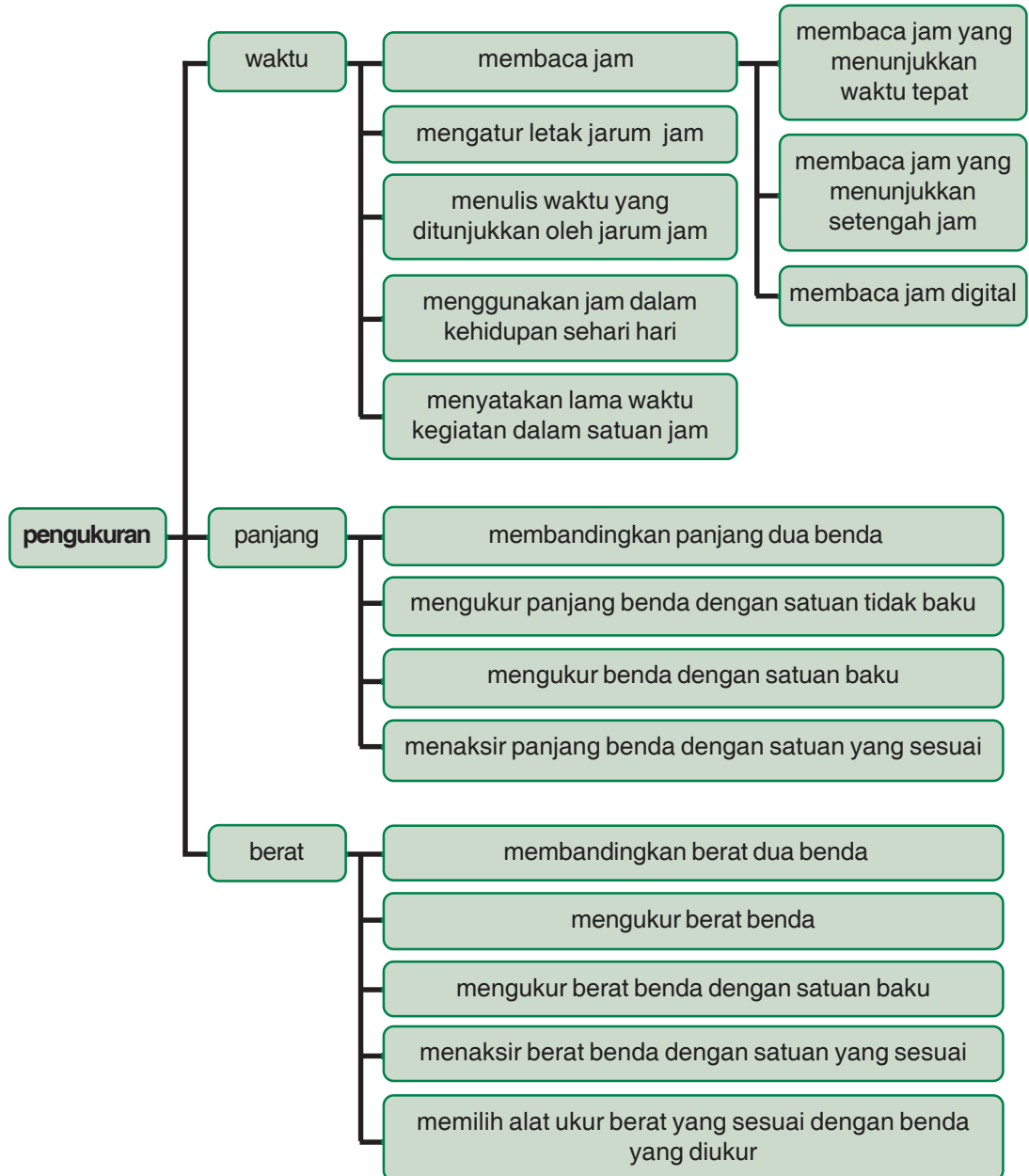
tujuan pembelajaran

- 1 siswa dapat menggunakan alat ukur waktu (jam)
- 2 siswa dapat melakukan pengukuran panjang dengan satuan tidak baku dan satuan baku
- 3 siswa dapat melakukan pengukuran berat
- 4 siswa dapat menyelesaikan masalah sehari-hari yang berhubungan dengan berat benda





p e t a k o n s e p



a waktu

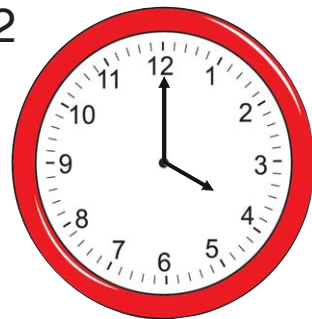
pengukuran waktu dipelajari di kelas I
sekarang kita akan belajar lagi
waktu sangat penting bagi kita
sekolah dan bermain ada waktunya
lama dan sebentar adalah satuan waktu
satuan ini tidak baku

1 membaca jam

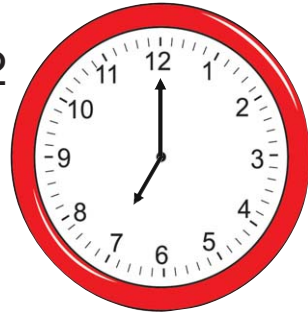
a membaca jam analog yang menunjukkan waktu tepat

jam analog memiliki jarum pendek dan panjang
jam analog biasa dipasang di dinding
perhatikan contoh berikut

jarum panjang menunjuk 12
jarum pendek menunjuk 4
jadi **pukul empat**



jarum panjang menunjuk 12
jarum pendek menunjuk 7
jadi **pukul tujuh**



latihan 1

menunjukkan pukul berapakah jam berikut

1



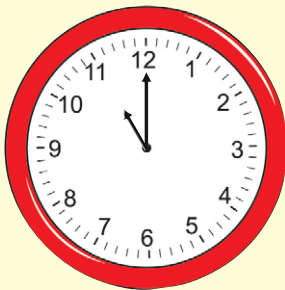
pukul ...

2




pukul ...

3



pukul ...

4




pukul ...

5



pukul ...

6



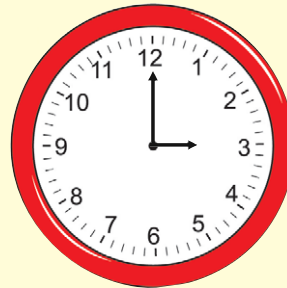
pukul ...

7



pukul ...

8




pukul ...


b membaca jam analog yang menunjukkan waktu setengah

perhatikan contoh berikut

jarum panjang menunjuk 6
jarum pendek antara
9 dan 10
dibaca **pukul setengah
sepuluh**




jarum panjang menunjuk 6
jarum pendek antara
6 dan 7
dibaca **pukul setengah
tujuh**



latihan 2

menunjukkan pukul berapakah jam berikut

1




pukul ...

2




pukul ...

3



pukul ...

4



pukul ...

5



pukul ...

6



pukul ...

7



pukul ...

8



pukul ...

c membaca jam digital

perhatikan gambar berikut



pernah melihat jam seperti di atas
jam tersebut dinamakan jam digital

jam digital terbagi atas dua bagian
keduanya dipisahkan oleh dua titik
bilangan pertama menunjukkan jam
bilangannya sampai 24
bilangan kedua menunjukkan menit
bilangannya sampai 60

bagaimana cara membaca jam digital

perhatikan contoh berikut

08 : 34

dibaca pukul 8 lebih 34 menit

15 : 16

dibaca pukul 15 lebih 16 menit



latihan 3

bacalah jam digital berikut

1

11 : 51

pukul ... lebih ... menit

2

09 : 43

pukul ... lebih ... menit

3

03 : 30

pukul ... lebih ... menit

4

21 : 07

pukul ... lebih ... menit

5

13 : 15

pukul ... lebih ... menit

6

17 : 24

pukul ... lebih ... menit


2 mengatur letak jarum jam

perhatikan letak jarum jam analog berikut



pukul sepuluh

jarum panjang
menunjuk 12
jarum pendek
menunjuk 10



pukul setengah empat

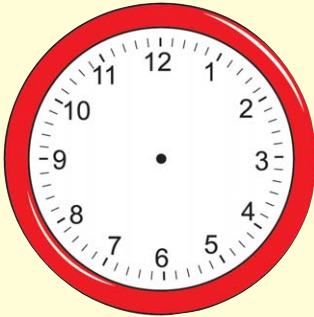
jarum panjang menunjuk 6
jarum pendek menunjuk
antara 3 dan 4



latihan 4


gambaran jarum jam untuk pukul berikut

1



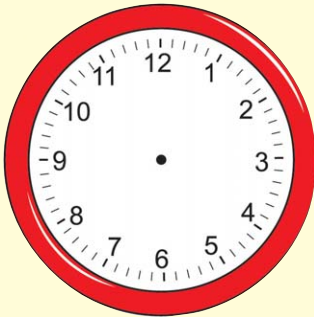
pukul delapan

2




pukul setengah satu

3



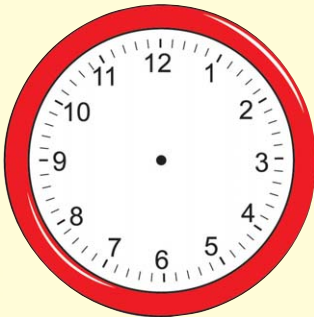
pukul dua

4



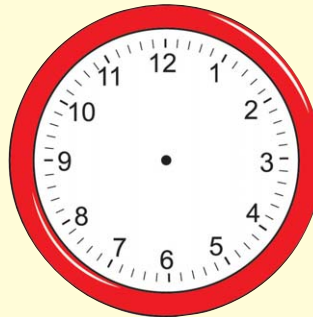
pukul setengah sembilan

5



pukul dua belas

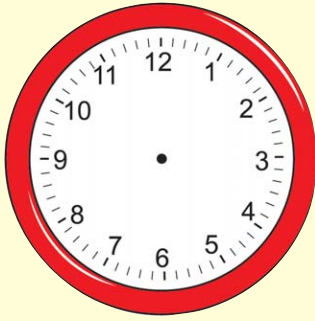
6



pukul setengah sebelas




7



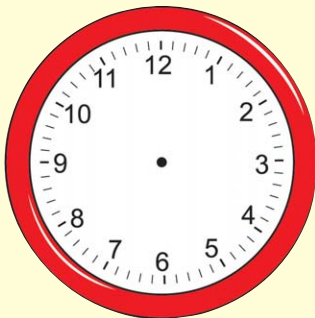
pukul setengah tiga

8



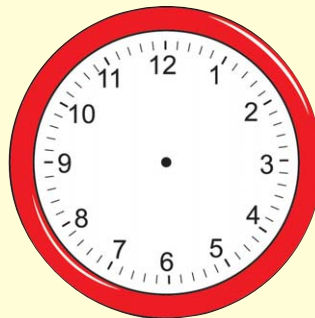
pukul satu

9



pukul empat

10





pukul setengah lima

3 mengatur tanda waktu yang ditunjukkan oleh jarum jam

contoh:

jam menunjukkan
pukul sepuluh
ditulis **pukul 10.00**





jam menunjukkan
pukul setengah empat
ditulis **pukul 3.30**



latihan 5

1



pukul ...

2




pukul ...

3



pukul ...

4



pukul ...

5




pukul ...

6




pukul ...

7



pukul ...

8











pukul ...

4 menggunakan jam dalam kehidupan sehari hari

setiap saat kita ada kegiatan
setiap kegiatan ada waktunya
kegiatan apakah di pagi hari
kegiatan apakah di siang hari
kegiatan apakah di sore hari
kegiatan apakah di malam hari

perhatikan kegiatan berikut

	05 : 00	
	06 : 30	
	07 : 00	
	10 : 00	



latihan 6

buatlah jadwal kegiatanmu sehari-hari

waktu	kegiatan yang dilakukan
pukul ...	bangun pagi
pukul 6.00
pukul 6.30
pukul
pukul
pukul
pukul
pukul
pukul
pukul



5 menyatakan lama waktu kegiatan dalam satuan jam



setiap hari minggu
pak tarya berolahraga pagi di taman
dia mulai berolahraga pada pukul 6.00
dia selesai olahraga pukul 7.00

berapa lama pak tarya berolahraga

jawab

lama pak tarya berolahraga pagi adalah **1 jam**



latihan 7

tentukan lamanya waktu dari setiap kegiatan

- 1 ani mulai belajar di sekolah pukul 8.00
ani selesai belajar di sekolah pukul 10.00
ani belajar di sekolah selama ... jam

- 2 ani mulai berlatih renang pukul 2.00 siang
dia menyelesaikan latihan pukul 4.00 sore
ani berlatih selama ... jam
- 3 desi diajak ibu berbelanja ke pasar
mereka berangkat pukul 8.00 pagi
mereka pulang pukul 11.00 siang
mereka di pasar selama ... jam
- 4 ari belajar mulai pukul 7.00 malam
ari selesai belajar pukul 9.00 malam
ari belajar selama ... jam
- 5 pukul berapa kamu biasa mulai belajar
pukul berapa kamu biasa selesai
berapa lama kamu belajar

panjang

ada banyak cara mengukur panjang
banyak alat untuk mengukur panjang
mistar dan meteran adalah contohnya
adakah alat lainnya

1 membandingkan panjang dua benda

perhatikan contoh berikut






latihan 8

bandingkan benda benda berikut
gunakan kata *lebih panjang* *lebih pendek*
atau *sama panjang*


1




...



2



...




3



...





2 mengukur panjang benda dengan satuan tidak baku

di kelas 1 kita sudah belajar mengukur benda dengan beberapa cara masih ingatkah kamu dengan satuan tidak baku misalnya jengkal langkah depa dan lengan apakah kekurangan menggunakan satuan tersebut





latihan 9


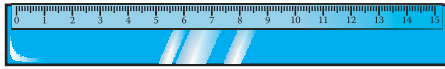
ukurlah benda berikut menggunakan satuan yang disebutkan

no	benda	ukuran tidak baku
1	meja guru	... jengkal
2	buku matematika	... korek api
3	papan tulis	... depa
4	buku tulis	... telapak tangan
5	ruang kelas	... langkah

3 mengukur benda dengan satuan baku

kamu telah mengenal satuan tidak baku
sekarang kita pelajari satuan panjang baku
satuan panjang baku yang sering digunakan
adalah meter dan sentimeter

perhatikan alat ukur panjang berikut



penggaris menggunakan satuan sentimeter
meteran menggunakan satuan meter dan
sentimeter

perlu diingat

1 meter sama dengan 100 sentimeter
ditulis $1 \text{ m} = 100 \text{ cm}$



latihan 10

gunakan mistar atau meteran
ukurlah benda benda di kelasmu
dalam satuan sentimeter

no	benda	ukuran baku
1 sentimeter
2 sentimeter

3 sentimeter
4 sentimeter
5 sentimeter

4 menaksir panjang benda dengan satuan yang sesuai

perhatikan gambar berikut



taksirlah panjang meja guru
kemudian ukur meja tersebut menggunakan
penggaris
bandingkan hasilnya dengan hasil taksiranmu



latihan 11


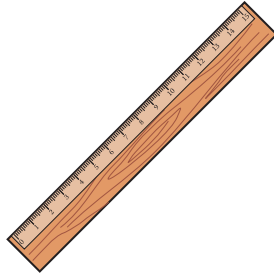
taksir dan ukurlah panjang lebar atau tinggi benda benda di kelasmu

no	benda	ukuran taksiran	ukuran baku
1
2
3
4
5
6
7
8
9
10



5 menggunakan alat ukur panjang sesuai benda yang diukur

perhatikan alat ukur panjang berikut



alat ukur harus digunakan dengan tepat manakah yang sering digunakan dalam belajar



latihan 12

alat ukur yang sesuai untuk mengukur

- 1 panjang lapangan bola basket
- 2 lebar buku
- 3 panjang dan lebar kain
- 4 lebar jalan raya yang akan diaspal
- 5 panjang dan lebar papan tulis

berat

setiap benda memiliki berat
ada benda yang berat ada yang ringan
bagaimana cara mengukur berat

1 membandingkan berat dua benda

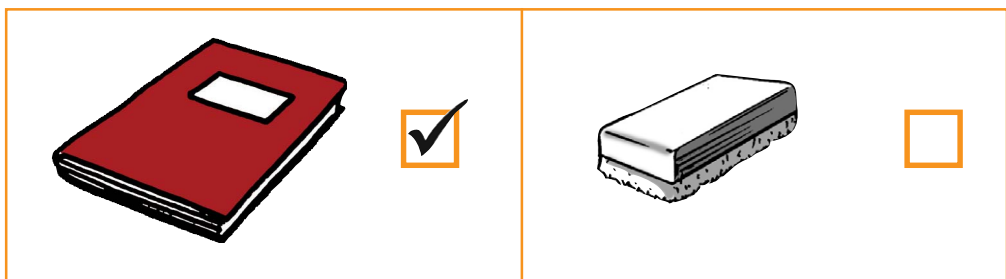
jika ada dua buah benda

hasil pengukuran yang mungkin terjadi adalah

- a benda yang satu **lebih berat** daripada benda yang lain
- b benda yang satu **lebih ringan** daripada benda yang lain
- c kedua benda **sama** berat

perhatikan contoh berikut

berilah tanda ✓ untuk benda yang lebih berat







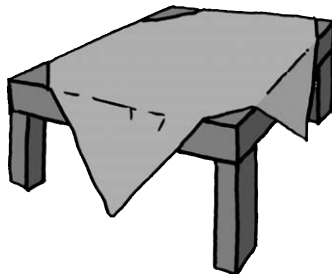

latihan 13

beri tanda ✓ jika benda *lebih berat* atau
keduanya bila *sama berat*

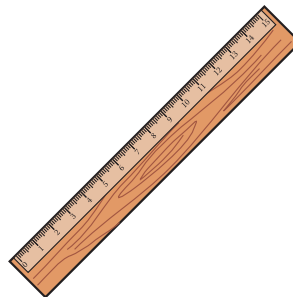
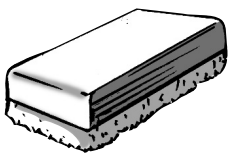
1





2





3



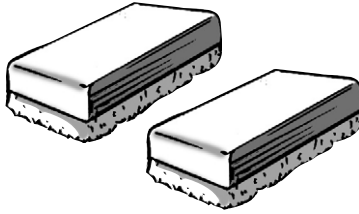
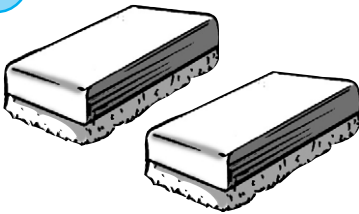
4





5



6



7



8



9



10



2 mengukur berat benda

agar hasil pengukuran berat lebih tepat
kita membutuhkan cara pengukuran yang tepat
menimbang adalah cara yang paling tepat
alat yang digunakan disebut **timbangan**

perhatikan timbangan sederhana berikut



latihan 14

bandingkan benda benda berikut
gunakan kata *lebih berat lebih ringan* atau
sama berat

1



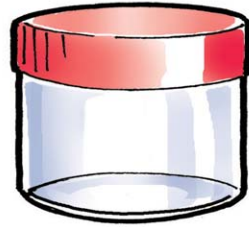
...



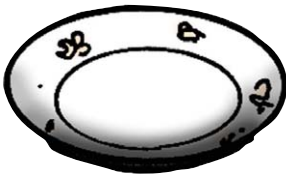
2



...



3



...



4



...



5




...



6



...



7



...



8



...




3 mengukur berat benda dengan satuan baku



hari minggu ibu pergi ke pasar
ibu membeli 8 kilogram beras
1 kilogram daging sapi dan
2 ons bawang merah

perhatikan gambar timbangan beserta anak timbangannya

macam macam ukuran
berat anak timbangan
2 kg dibaca 2 kilogram
1 kg dibaca 1 kilogram
1 pon sama dengan 500 gram
1 ons sama dengan 100 gram





latihan 15

nyatakan berat benda berikut
gunakan satuan anak timbangan

1




berat telur adalah 3 kg

2




berat beras adalah ... kg

3



berat duku adalah
... kg ... ons

4



berat melon
... kg ... ons

5



berat tepung
... kg ... ons

6



berat bawang merah
... ons

4 menaksir berat benda dengan satuan yang sesuai

sebelum mengukur dengan timbangan
kita dapat menaksir berat suatu benda
bagaimanakah caranya



latihan 16


tulis nama benda

taksirlah berat masing masing benda tersebut

no	nama benda	taksiran berat
1		... kg ... ons
2		... kg ... ons
3		... kg ... ons
4		... kg ... ons
5		... kg ... ons

5 memilih alat ukur berat sesuai dengan benda yang diukur

perhatikan beberapa jenis timbangan di berikut



timbangan mana yang sesuai untuk mengukur berat suatu benda



berpikir kritis

apakah kamu pernah mendengar satuan ton dan kuintal
satuan apakah itu



kegiatan

tanyakan kepada 5 temanmu tentang

- 1 pukul berapa bangun pagi
- 2 berapa berat badan
- 3 berapa tinggi badan

catat jawaban temanmu itu
urutkan yang urutannya diawali dari

- 1 paling pagi bangun
- 2 paling ringan berat badan
- 3 paling rendah tinggi badan

apakah urutan bangun pagi sama dengan urutan berat badan

apakah urutan bangun pagi sama dengan urutan tinggi badan

apakah urutan berat sama dengan urutan tinggi badan



r a n g k u m a n

lingkari yang telah dipelajari

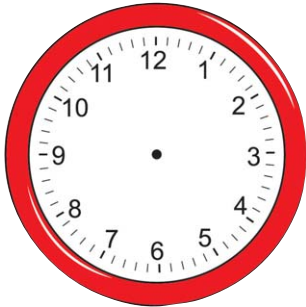
no	materi yang dipelajari
1	mengukur waktu
2	mengukur panjang benda
3	mengukur berat benda
4	membaca jam biasa dan digital
5	menulis waktu
6	membandingkan berat benda
7	menggunakan satuan baku
8	menggunakan satuan tidak baku
9	menggunakan alat ukur





a isilah titik titik berikut dengan jawaban yang tepat

1



letak jarum jam dari gambar di samping yang menunjukkan pukul 7.30 adalah ...

2

lita mulai belajar pukul 8.00 malam
selesai belajar pukul 9.00 malam
lama lita belajar adalah ...

3

pukul 11.00 malam disebut juga pukul ...

4

tanda waktu pukul setengah sembilan
yaitu ...

5

rima mempunyai 2 pita
panjang masing masing 5 m dan 3 m
pita yang lebih panjang adalah ...

6

satu meter sama dengan ... sentimeter

7

panjang penggaris aris 50 cm
satuan yang digunakan adalah ...

- 8 kakak membeli tepung terigu 4 kg
minyak kelapa 2 kg
benda yang lebih berat adalah ...
- 9 berat sekarung beras 34 kg
berat taksiran tepung dalam karung yang
sama adalah ...
- 10 sekarang pukul 8.00
2 jam yang akan datang adalah pukul ...
- 11 upacara bendera dimulai pukul 7.00
upacara selesai pukul 8.00
upacara bendera berlangsung selama ... jam
- 12 panjang tongkat 123 cm
panjang tongkat kira kira ... cm
- 13 alat ukur yang biasa digunakan
untuk mengukur panjang kain adalah ...
- 14 ibu membeli kalung seberat 8 g
gelang seberat 5 g
berat perhiasan ibu adalah ... g
- 15 neraca digunakan untuk menimbang ...



b kerjakan soal soal berikut

- 1 jam berapa kamu masuk kelas
- 2 alat ukur apa yang digunakan untuk mengukur kain
- 3 gambarkan jarum jam yang menunjuk pukul setengah sembilan
- 4 apa beda jam analog dan jam digital
- 5 sebutkan satuan panjang tidak baku



r e f l e k s i

materi yang perlu belajar lebih

no	materi yang dipelajari
1	mengukur waktu
2	mengukur panjang benda
3	mengukur berat benda
4	membaca jam biasa dan digital
5	menulis waktu

- 6 membandingkan berat benda
- 7 menggunakan satuan baku
- 8 menggunakan satuan tidak baku
- 9 menggunakan alat ukur





latihan ulangan semester 1

a berilah tanda silang (x) pada huruf a b atau c di depan jawaban yang benar

- ① bilangan 169 dibaca ...
 - a enam ratus sembilan belas
 - b seratus enam belas
 - c seratus enam puluh sembilan

- ② lambang bilangan dari tiga ratus enam puluh dua adalah ...
 - a 326
 - b 362
 - c 263

- ③ nilai angka 3 pada 314 adalah ...
 - a satuan
 - b puluhan
 - c ratusan

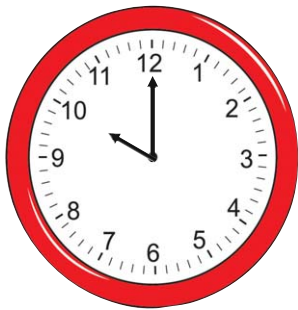
- ④ susunan bilangan yang benar adalah ...
 - a 263 265 264 266
 - b 217 218 219 220
 - c 265 264 263 261

- 5) pada bilangan 453 tempat satuan ditempati oleh angka ...
- a 4
 - b 5
 - c 3
- 6) $93 + 26 = \dots$
- a 191
 - b 139
 - c 119
- 7) $266 - 34 = \dots$
- a 232
 - b 231
 - c 223
- 8) $315 - \dots = 78$
- a 327
 - b 237
 - c 227
- 9) $345 - 132 + 42 = \dots$
- a 255
 - b 525
 - c 552

10 $329 + 111 = \dots$

- a 440
- b 404
- c 401

11



jam disamping menunjukkan pukul ...

- a 12.00
- b 11.00
- c 10.00

12



berat benda di samping adalah ...

- a 3 kg
- b 3 kg 2 ons
- c 3 kg 5 ons

13 $4 \text{ gram} + 5 \text{ gram} = \dots \text{ gram}$

- a 9 gram
- b 1 gram
- c 11 gram

14) aku pulang sekolah
jarum jam panjang menunjukkan angka 12
jarum pendek menunjuk angka 10
aku pulang pukul ...

- a 12.00
- b 12.10
- c 10.00

15) sekarang pukul 3.00
pukul berapa 3 jam yang akan datang ...

- a 6.00
- b 1.00
- c 9.00

16) alat ukur yang digunakan untuk
menunjukkan waktu ...

- a jam
- b meteran
- c timbangan

17)



jam di samping
menunjukkan pukul ...

- a 6.30
- b 7.30
- c 8.30

- 18) kelereng adik seluruhnya adalah 123 buah
50 buah diberikan temannya
sisa kelereng adik sekarang adalah ... buah
- a 73
 - b 37
 - c 13
- 19) $302 = 3 \text{ ratusan} + \dots \text{ puluhan} + 2 \text{ satuan}$
- a 10
 - b 0
 - c 20
 - d 30
- 20) berat sekarung beras adalah 48 kg
taksiran berat sekarung beras adalah ...
- a 40 kg
 - b 45 kg
 - c 50 kg

b kerjakan dengan benar

- 1) lengkapi jarum jam berikut



- ② arimbi pergi bermain pukul 7.00
kemudian pulang ke rumah pukul 8.00
berapa lama arimbi bermain
- ③ ibu membeli jeruk 2 kilogram
ayah membeli jeruk 1 kilogram
berapa jumlah jeruk yang dibeli ayah dan ibu
- ④ ukuran sepatu ardi 25
ukuran sepatuku 24
bandingkan ukuran sepatuku dengan
sepatu ardi
- ⑤ alat ukur apa yang digunakan untuk
mengukur berat badan


perkalian dan pembagian

bab

3

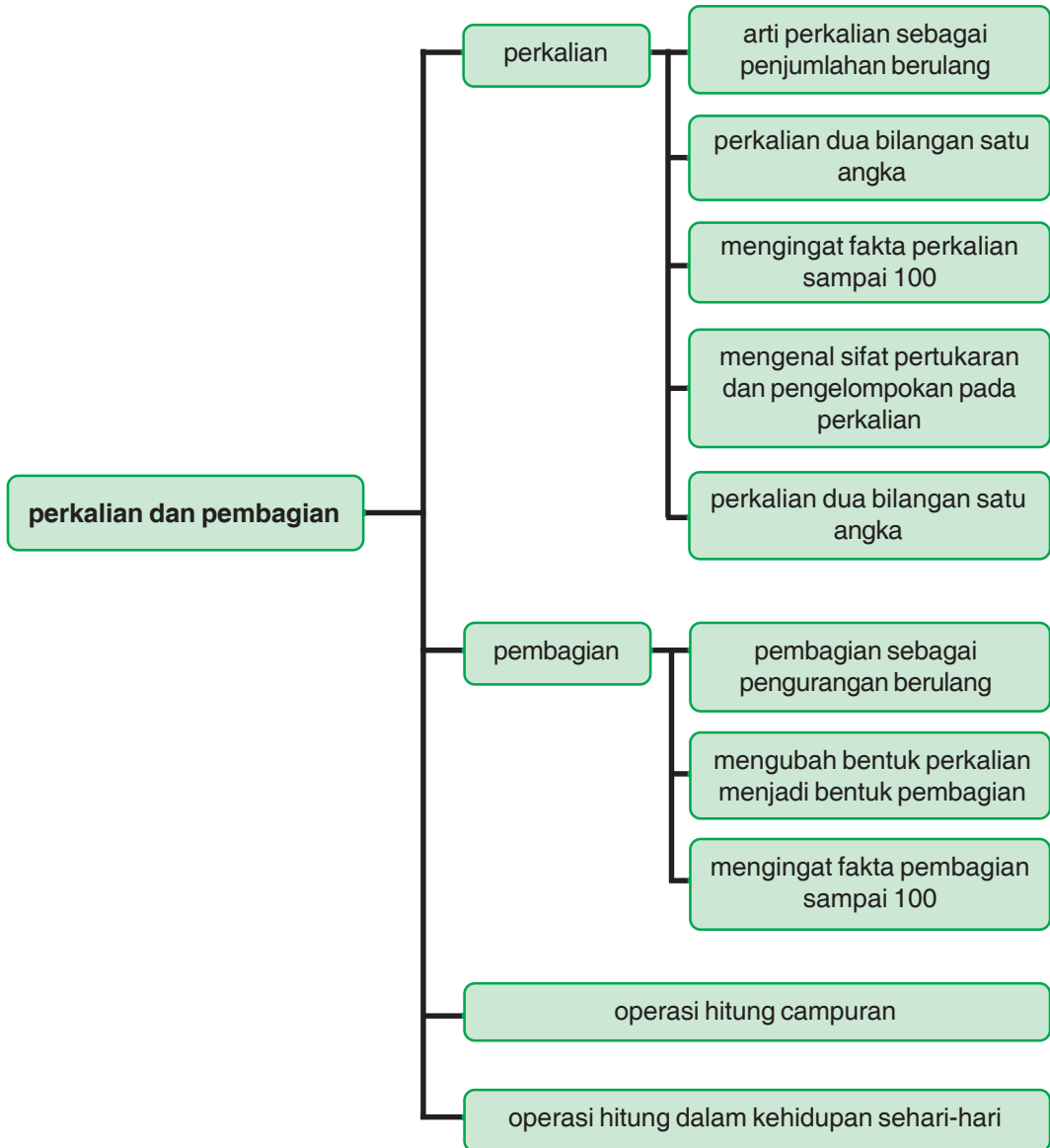
tujuan pembelajaran

- 1 siswa dapat mengenal arti perkalian sebagai penjumlahan berulang
- 2 siswa dapat melakukan perkalian dua bilangan satu angka dengan menggunakan daftar perkalian
- 3 siswa dapat mengingat fakta perkalian sampai 100
- 4 siswa dapat menggunakan operasi hitung (pertukaran dan pengelompokan) untuk mempermudah perhitungan perkalian
- 5 siswa dapat memahami arti pembagian sebagai pengurangan berulang
- 6 siswa dapat mengubah bentuk perkalian menjadi bentuk pembagian
- 7 siswa dapat mengingat fakta pembagian sampai 100 dengan berbagai cara
- 8 siswa dapat menyelesaikan masalah sehari-hari yang berhubungan dengan operasi hitung





p e t a k o n s e p



perkalian

dita baru pulang liburan dari medan
ia membawa 5 kantong plastik
setiap kantong berisi 8 buah jeruk
berapa buah jeruk yang dibawa dita

gunakan penjumlahan atau perkalian untuk
menjawabnya

1 arti perkalian sebagai penjumlahan berulang

perhatikan gambar berikut
ada 3 buah sangkar
masing masing berisi 2 burung
berapa banyak burung seluruhnya



2 burung



2 burung



2 burung

banyak burung

$$2 + 2 + 2 = 6$$

ada **3** kali penjumlahan **2**

artinya **$3 \times 2 = 6$**

$$\text{jadi } 3 \times 2 = 2 + 2 + 2 = 6$$

3×2 dibaca 3 kali 2

artinya 2 nya ada 3 kali

$$\text{atau } 3 \times 2 = 2 + 2 + 2$$



latihan 1

a isilah titik titik berikut dengan bentuk penjumlahan berulang

1 $3 \times 4 = \dots + \dots + \dots = \dots$

2 $4 \times 3 = \dots + \dots + \dots + \dots = \dots$

3 $4 \times 4 = \dots + \dots + \dots + \dots = \dots$

4 $5 \times 3 = \dots + \dots + \dots + \dots + \dots = \dots$

5 $3 \times 5 = \dots + \dots + \dots = \dots$

6 $6 \times 3 = \dots + \dots + \dots + \dots + \dots + \dots = \dots$

7 $4 \times 8 = \dots + \dots + \dots + \dots = \dots$

8 $5 \times 4 = \dots + \dots + \dots + \dots + \dots = \dots$



9 $3 \times 7 = \dots + \dots + \dots = \dots$

10 $7 \times 5 = \dots + \dots + \dots + \dots + \dots + \dots + \dots = \dots$

b tuliskan bentuk penjumlahan berulang dari perkalian berikut

1 $4 \times 5 = \dots$

2 $3 \times 6 = \dots$

3 $4 \times 6 = \dots$

4 $5 \times 7 = \dots$

5 $6 \times 5 = \dots$

c kerjakan soal soal berikut

1 $3 + 3 + 3 + 3 = 4 \times 3 = 12$

2 $2 + 2 + 2 + 2 + 2 + 2 + 2 = \dots \times \dots = \dots$

3 $4 + 4 + 4 + 4 + 4 + 4 = \dots \times \dots = \dots$

4 $5 + 5 + 5 + 5 = \dots \times \dots = \dots$

5 $6 + 6 = \dots \times \dots = \dots$

6 $6 + 6 + 6 + 6 = \dots \times \dots = \dots$

7 $7 + 7 + 7 = \dots \times \dots = \dots$

8 $7 + 7 + 7 + 7 + 7 + 7 = \dots \times \dots = \dots$

9 $8 + 8 + 8 + 8 + 8 = \dots \times \dots = \dots$

10 $9 + 9 + 9 + 9 + 9 + 9 + 9 = \dots \times \dots = \dots$

2 perkalian dua bilangan satu angka

berikut daftar perkalian dua bilangan

×	1	2	3	4	5	6	7	8	9
1	1	2	3	4	5	6	7	8	9
2	2	4	6	8	10	12	14	16	18
3	3	6	9	12	15	18	21	24	27
4	4	8	12	16	20	24	28	32	36
5	5	10	15	20	25	30	35	40	45
6	6	12	18	24	30	36	42	48	54
7	7	14	21	28	35	42	49	56	63
8	8	16	24	32	40	48	56	64	72
9	9	18	27	36	45	54	63	72	81

petunjuk penggunaan daftar perkalian

misalkan kita akan menghitung 4×3 dan 7×6

$$4 \times 3 = \dots$$

buatlah garis pada baris ke 4

buat garis pada kolom ke 3

kedua garis berpotongan di 12

jadi $4 \times 3 = 12$

$$7 \times 6 = \dots$$

buatlah garis pada baris ke 7
buat garis pada kolom ke 6
kedua garis berpotongan di 42
jadi $7 \times 6 = 42$



latihan 2

gunakan daftar perkalian
selesaikan perkalian berikut

1 $3 \times 8 = \dots$

6 $5 \times 4 = \dots$

2 $6 \times 5 = \dots$

7 $2 \times 9 = \dots$

3 $8 \times 4 = \dots$

8 $5 \times 9 = \dots$

4 $4 \times 5 = \dots$

9 $3 \times 6 = \dots$

5 $9 \times 8 = \dots$

10 $7 \times 7 = \dots$



kegiatan

buatlah fakta perkalian mulai kelipatan 2
perhatikan contoh kelipatan 1 berikut

$$1 \times 1 = 1$$

$$2 \times 1 = 2$$

$$3 \times 1 = 3$$

$$4 \times 1 = 4$$

$$5 \times 1 = 5$$

$$6 \times 1 = 6$$

$$7 \times 1 = 7$$

$$8 \times 1 = 8$$


$$9 \times 1 = 9$$


$$10 \times 1 = 10$$

3 mengenal sifat pertukaran dan pengelompokan pada perkalian

a sifat pertukaran

perhatikan uraian berikut


$$\begin{array}{c} 4 + 4 \\ \hline 2 \times 4 = 8 \end{array}$$


$$\begin{array}{c} 2 + 2 + 2 + 2 \\ \hline 4 \times 2 = 8 \end{array}$$

$$\text{jadi } 2 \times 4 = 4 \times 2 = 8$$

walaupun urutan dua bilangan ditukar
hasil kalinya sama



latihan 3

isilah titik titik berikut menggunakan sifat pertukaran

1 $3 \times 7 = \dots \times 3 = \dots$

2 $4 \times 5 = 5 \times \dots = \dots$

3 $2 \times 6 = \dots \times \dots = \dots$

4 $8 \times \dots = 5 \times 8 = \dots$

5 $6 \times 4 = \dots \times \dots = \dots$

6 $9 \times 6 = \dots \times \dots = \dots$

7 $9 \times 7 = \dots \times \dots = \dots$

8 $\dots \times \dots = 7 \times 9 = \dots$

9 $8 \times 6 = \dots \times \dots = \dots$

10 $\dots \times \dots = 8 \times 2 = \dots$

b sifat pengelompokan

perhatikan contoh berikut

$$(2 \times 4) \times 3 = 2 \times (4 \times 3)$$

$$5 \times (3 \times 7) = (5 \times 3) \times 7$$

sifat pengelompokan tidak mengubah hasil perkalian





latihan 4

isilah titik titik berikut menggunakan sifat pengelompokan

1 $(4 \times 2) \times 5 = 4 \times (\dots \times \dots)$

2 $(2 \times 3) \times 6 = \dots \times (\dots \times 6)$

3 $(3 \times 5) \times 4 = \dots \times (5 \times \dots)$

4 $(\dots \times 6) \times 3 = 5 \times (\dots \times 3)$

5 $(6 \times 7) \times \dots = \dots \times (7 \times 4)$

6 $(\dots \times 6) \times 7 = 9 \times (\dots \times 7)$

7 $(5 \times \dots) \times 7 = \dots \times (4 \times \dots)$

8 $(\dots \times 8) \times \dots = 7 \times (\dots \times 8)$

9 $(\dots \times \dots) \times 6 = 6 \times (9 \times \dots)$

10 $(8 \times \dots) \times 9 = \dots \times (6 \times \dots)$

b pembagian

1 pembagian sebagai pengurangan berulang

apakah arti pembagian sebagai pengurangan berulang

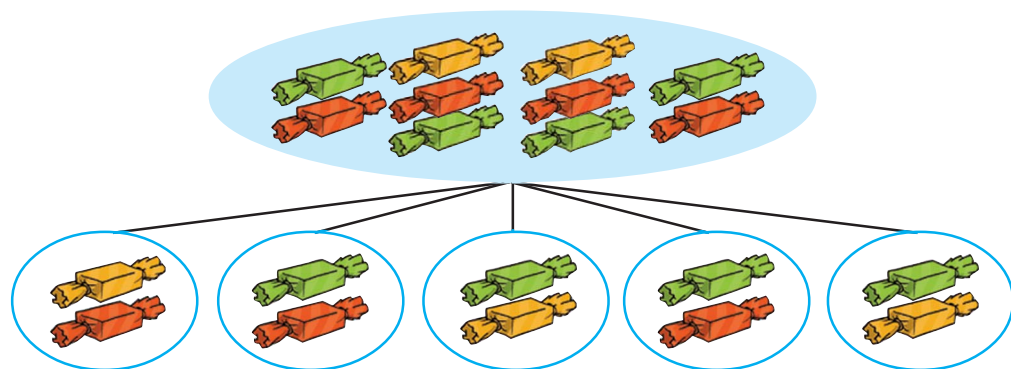


perhatikan contoh berikut

ibu mempunyai 10 permen
dibagikan kepada lima orang anak
setiap anak mendapat sama banyak
berapa permen yang diterima setiap anak



jawab



$10 : 2$ artinya 10 dikurangi 2 secara berulang
sampai habis

$$10 - 2 - 2 - 2 - 2 - 2 = 0 \text{ (habis)}$$

pengurangan selesai setelah **lima** kali

jadi setiap anak mendapat **5** permen



latihan 5

tuliskan pembagian dari bilangan berikut dalam bentuk pengurangan berulang

- ① $4 : 2$ artinya $4 - 2 = 2 - 2 = 0$
karena terdapat dua kali pengurangan
jadi $4 : 2 = 2$

untuk nomor 2 sampai 10 kerjakan seperti nomor 1

- ② $6 : 2 = \dots$
karena terdapat ... kali pengurangan
jadi $6 : 2 = \dots$
- ③ $6 : 3 = \dots$
karena terdapat ... kali pengurangan
jadi $6 : 3 = \dots$
- ④ $8 : 2 = \dots$
karena terdapat ... kali pengurangan
jadi $8 : 2 = \dots$
- ⑤ $15 : 3 = \dots$
karena terdapat ... kali pengurangan
jadi $15 : 3 = \dots$
- ⑥ $24 : 6 = \dots$
karena terdapat ... kali pengurangan
jadi $24 : 6 = \dots$



- 7) $30 : 5 = \dots$
karena terdapat ... kali pengurangan
jadi $30 : 5 = \dots$
- 8) $32 : 8 = \dots$
karena terdapat ... kali pengurangan
jadi $32 : 8 = \dots$
- 9) $36 : 6 = \dots$
karena terdapat ... kali pengurangan
jadi $36 : 6 = \dots$
- 10) $42 : 7 = \dots$
karena terdapat ... kali pengurangan
jadi $42 : 7 = \dots$

2 mengubah bentuk pembagian menjadi bentuk perkalian

apakah pembagian dapat diubah menjadi perkalian
perhatikan contoh contoh berikut

- a) $12 : 4 = 3$
 $4 \times 3 = 12$
- b) $15 : 5 = 3$
 $5 \times 3 = 15$
- c) $20 : 4 = 5$
 $4 \times 5 = 20$

jika pembagi dan hasil bagi kita kalikan maka kita dapatkan bilangan yang dibagi



latihan 6

isilah titik titik berikut dengan benar

1 $2 \times 4 = \dots$
 $\dots : 2 = 4$

2 $3 \times 5 = \dots$
 $\dots : 3 = 5$

3 $5 \times 4 = \dots$
 $\dots : 5 = 4$

4 $4 \times 7 = \dots$
 $\dots : 4 = 7$

5 $6 \times 4 = \dots$
 $\dots : 6 = 4$

6 $7 \times 5 = \dots$
 $\dots : 7 = 5$

7 $6 \times 9 = \dots$
 $\dots : 6 = 9$

8 $7 \times 6 = \dots$
 $\dots : 7 = 6$

9 $8 \times 3 = \dots$
 $\dots : 8 = 3$

10 $9 \times 8 = \dots$
 $\dots : 9 = 8$

3 mengingat fakta pembagian

untuk mengingat fakta pembagian kita dapat menggunakan fakta perkalian masih ingatkah kamu dengan fakta perkalian



contoh

hitunglah $16 : 4$

jawab

mengingat $4 \times 4 = 16$ maka $16 : 4 = 4$



latihan 7

selesaikan pembagian berikut

① $5 : 1 = \dots$

② $6 : 2 = \dots$

③ $15 : 3 = \dots$

④ $16 : 4 = \dots$

⑤ $21 : 3 = \dots$

⑥ $24 : 6 = \dots$

⑦ $35 : 5 = \dots$

⑧ $40 : 5 = \dots$

⑨ $36 : 4 = \dots$

⑩ $45 : 5 = \dots$

⑪ $42 : 6 = \dots$

⑫ $48 : 8 = \dots$

⑬ $49 : 7 = \dots$

⑭ $54 : 9 = \dots$

⑮ $56 : 8 = \dots$

⑯ $63 : 7 = \dots$

⑰ $64 : 8 = \dots$

⑱ $70 : 7 = \dots$

⑲ $72 : 9 = \dots$

⑳ $81 : 9 = \dots$

c operasi hitung campuran

operasi hitung campuran meliputi

- 1 penjumlahan dan pengurangan
- 2 perkalian dan pembagian
- 3 gabungan penjumlahan pengurangan perkalian dan pembagian

contoh

hitunglah

(a) $263 + 127 - 107 = \dots$

(b) $413 - 314 + 217 = \dots$

(c) $16 \times 2 : 4 = \dots$

(d) $64 : 8 \times 3 = \dots$

(e) $37 + 117 - 8 \times 4 : 2 = \dots$

jawab

hitunglah

$$\begin{aligned} \text{(a)} \quad 263 + 127 - 107 &= (263 + 127) - 107 \\ &= 390 - 107 \\ &= 283 \end{aligned}$$

$$\begin{aligned} \text{(b)} \quad 413 - 314 + 217 &= (413 - 314) + 217 \\ &= 99 + 217 \\ &= 316 \end{aligned}$$



$$\begin{aligned} \textcircled{c} \quad 16 \times 2 : 4 &= (16 \times 2) : 4 \\ &= 32 : 4 \\ &= 8 \end{aligned}$$

$$\begin{aligned} \textcircled{d} \quad 64 : 8 \times 3 &= (64 : 8) \times 3 \\ &= 8 \times 3 \\ &= 24 \end{aligned}$$

$$\begin{aligned} \textcircled{e} \quad 37 + 117 - 8 \times 4 : 2 &= (37 + 117) - (8 \times 4 : 2) \\ &= 154 - 16 \\ &= 138 \end{aligned}$$

cara pengerjaan operasi hitung campuran

- 1 kerjakan operasi dalam tanda kurung
- 2 operasi penjumlahan dan pengurangan setingkat dahulukan operasi paling kiri
- 3 operasi perkalian dan pembagian setingkat dahulukan operasi paling kiri
- 4 operasi perkalian dan pembagian lebih tinggi dari operasi penjumlahan dan pengurangan dahulukan operasi perkalian dan pembagian



latihan 8

kerjakan operasi hitung campuran berikut

1 $241 - 116 + 123 = \dots$

2 $16 \times 4 - 11 + 100 = \dots$

3 $341 + 105 - 5 \times 4 = \dots$

4 $10 \times 10 : 10 = \dots$

5 $5 \times 3 + 115 - 120 = \dots$

 operasi hitung dalam kehidupan sehari hari

1 soal cerita yang melibatkan perkalian

contoh

pak aji mempunyai 3 ekor ayam
setiap ekor bertelur 4 butir
berapa butir telur semuanya

jawab

1 ayam bertelur 4 butir

$$4 + 4 + 4 + 4$$

$$3 \times 4 = 4 + 4 + 4 = 12$$

jadi jumlah telur adalah 12 butir





latihan 9

- 1 danil membeli 3 bungkus kelereng
setiap bungkus berisi 6 kelereng
berapa banyak kelereng yang dimiliki danil
- 2 rio mempunyai 4 plastik permen
setiap plastik berisi 5 permen
berapa banyak permen yang dimiliki rio
- 3 ibu membeli 4 ikat rambutan
setiap ikat ada 9 buah rambutan
berapa banyak rambutan yang dibeli ibu
- 4 winda mempunyai 6 dus kue
setiap dus berisi 7 kue
berapa banyak kue yang dimiliki winda
- 5 ani membeli 5 kg jeruk
1 kg berisi 8 buah jeruk
berapa buah jeruk yang dibeli ani

2 soal cerita yang melibatkan pembagian

contoh

wini memiliki 6 pulpen
pulpen tersebut dibagikan kepada 3 adiknya
setiap adik menerima sama banyak
berapa banyak pulpen diterima masing masing

jawab

6 pulpen dibagikan kepada 3 adik sama banyak
maka $6 : 3$ artinya $6 : 3 = 6 - 3 - 3 = 0$
karena ada 2 pengurangan $6 : 3 = 2$
jadi masing masing mendapat 2 buah



latihan 10

- 1 arman membeli 18 apel
apel dibagikan kepada 3 temannya
masing masing menerima sama banyak
berapa banyak apel yang diterima setiap anak
- 2 ibu defina membuat 32 kue
kue akan dikemas menjadi 8 bungkus
setiap kemasan berisi sama banyak
berapa banyak kue dalam setiap kemasan
- 3 pak rudi mempunyai 24 ekor ayam
ia ingin membuat kandang untuk ayamnya
setiap kandang berisi 4 ayam
berapa banyak kandang yang harus dibuat
- 4 ibu membeli 30 kancing baju
setiap baju memerlukan 5 kancing
berapa banyak baju yang dibuat ibu



- 5 andika mempunyai 18 ekor merpati
jumlah merpati jantan dan betina sama
berapa banyak merpati betina



berpikir kritis

diskusikan dengan teman sejamu

1 $0 + 0 = \dots$
 $0 \times 0 = \dots$
apakah $0 + 0 = 0 \times 0$

2 $1 + 1 = \dots$
 $1 \times 1 = \dots$
apakah $1 + 1 = 1 \times 1$

3 $2 + 2 = \dots$
 $2 \times 2 = \dots$
apakah $2 + 2 = 2 \times 2$

4 $3 + 3 = \dots$
 $3 \times 3 = \dots$
apakah $3 + 3 = 3 \times 3$

apakah yang dapat kamu simpulkan





kegiatan

ambil semua buku kegiatanmu
periksa jumlah halamannya
apakah selalu genap
apakah ada yang ganjil



rangkuman

lingkari yang telah dipelajari

no	materi yang dipelajari
1	mengalikan
2	menggunakan sifat pertukaran
3	menggunakan sifat pengelompokan
4	membagi
5	operasi hitung campuran penjumlahan dan pengurangan
6	operasi hitung campuran perkalian dan pembagian
7	menyelesaikan soal cerita



evaluasi

a isilah titik titik berikut dengan jawaban yang tepat

- 1 $5 \times 7 = \dots + \dots + \dots + \dots + \dots = \dots$
- 2 bentuk pengurangan sampai habis $9 : 3$ adalah ...
- 3 $8 \times 6 = \dots$
- 4 $27 : 3 = \dots$
- 5 $4 \times 7 = \dots$
- 6 $9 \times \dots = 54$
- 7 $64 : \dots = 8$
- 8 $81 : 9 + 12 = \dots$
- 9 $6 \times 7 + 12 : 4 = \dots$
- 10 ibu mempunyai 5 ikat buah rambutan setiap ikatnya terdiri dari 9 buah jumlah rambutan seluruhnya adalah ...

- 11 siska mempunyai 6 pasang penjepit rambut
jumlah penjepit rambut siska adalah ...
- 12 kakek mempunyai 12 ekor ayam
tiap ekor ayam menghasilkan 3 butir telur
telur yang dihasilkan ayam kakek adalah ...
- 13 paman mempunyai 24 pensil
diberikan pada empat anaknya
setiap anak mendapat 5 buah
pensil yang dimiliki paman sekarang adalah ...
- 14 ibu membawa 30 kerupuk
dimasukkan ke dalam 5 toples
dengan jumlah sama banyak
jumlah kerupuk setiap toplesnya adalah ...
- 15 nenek memetik mangga sebanyak 40 buah
kakek memetik lagi 16 buah
buah mangga dibagikan kepada ketujuh
cucunya
buah mangga yang di dapat setiap cucu
adalah ...

b kerjakan soal soal berikut

- 1 ubahlah ke dalam bentuk perkalian $32 : 4$
- 2 jelaskan cara mencari hasil perkalian bilangan 7×6 sebagai penjumlahan
- 3 jelaskan cara mencari hasil pembagian bilangan $64 : 8$ dengan pengurangan berulang sampai habis
- 4 pedagang roti membawa 36 roti ditempatkan ke dalam 6 kardus sama banyak berapa isi setiap kardusnya
- 5 nia membeli 8 bungkus permen tiap bungkus berisi 6 buah berapa banyak permen yang dibeli nia



refleksi

materi yang perlu belajar lebih

no	materi yang dipelajari
1	mengalikan
2	menggunakan sifat pertukaran
3	menggunakan sifat pengelompokan
4	membagi
5	operasi hitung campuran penjumlahan dan pengurangan
6	operasi hitung campuran perkalian dan pembagian
7	menyelesaikan soal cerita




bab

bangun datar

4

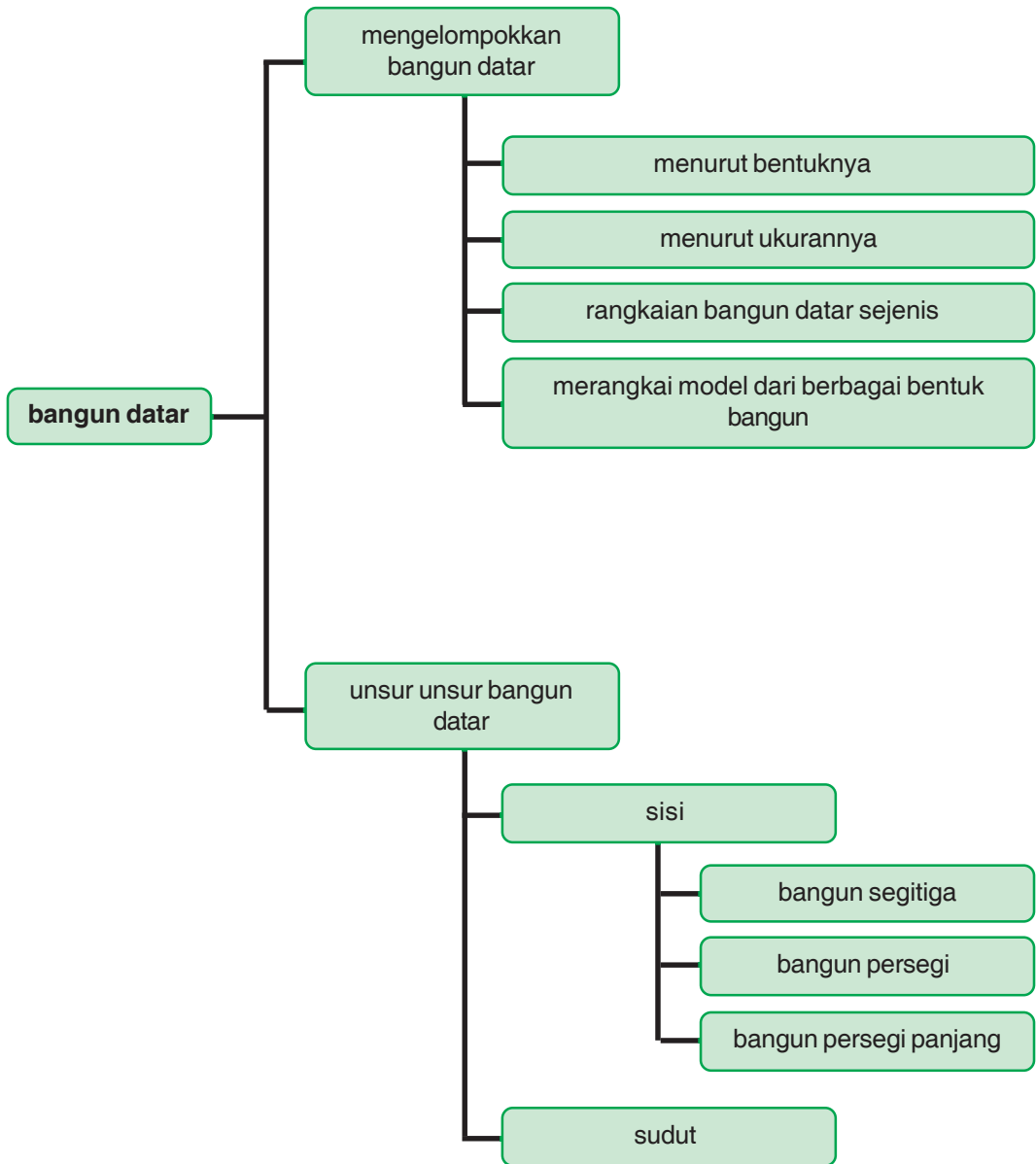
tujuan pembelajaran

- 1 siswa dapat mengelompokkan bangun datar menurut bentuknya
- 2 siswa dapat mengelompokkan bangun datar menurut ukurannya
- 3 siswa dapat mengenal sudut dan titik sudut dari bangun ruang
- 4 siswa dapat mengenal dan menggambar segitiga
- 5 siswa dapat mengenal dan menggambar persegi
- 6 siswa dapat mengenal dan menggambar persegi panjang





p e t a k o n s e p




a mengelompokkan bangun datar

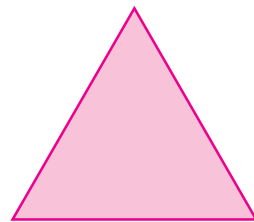
ingatlah kamu bentuk bentuk bangun datar
di sekeliling kita banyak benda datar
misalnya tutup kaleng yang berbentuk lingkaran
ubin yang berbentuk persegi
alas meja yang berbentuk persegi panjang
apakah bentuk papan tulis

1 mengelompokkan bangun datar menurut bentuknya


perhatikan bentuk bangun datar berikut




persegi



segitiga




layang layang



lingkaran




persegi panjang



belah ketupat





jajargenjang



trapesium

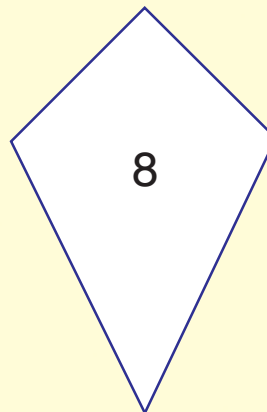
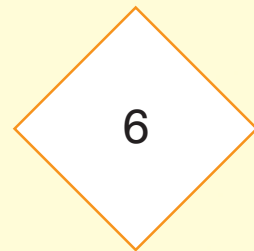

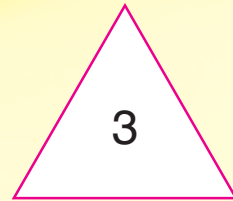
berikut kelompok bangun datar persegi panjang





latihan 1

sebutkan nama bangun berikut




kegiatan


carilah secara berkelompok berbagai bentuk benda berbentuk bangun datar

2 mengelompokkan bangun datar menurut ukurannya

perhatikan contoh berikut
urutan persegi dari yang terkecil



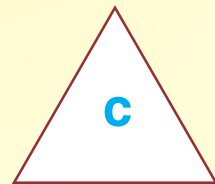
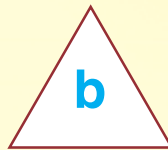
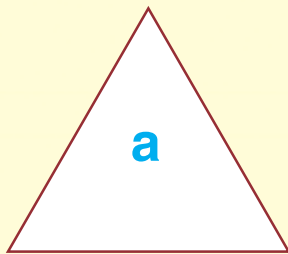
urutan jajargenjang dari yang terbesar



latihan 2

berikan nomor urut pada gambar berikut
mulai dari yang terkecil

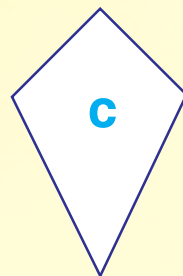
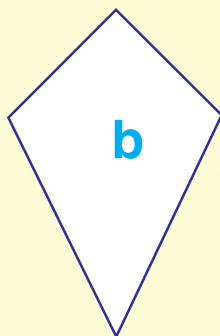
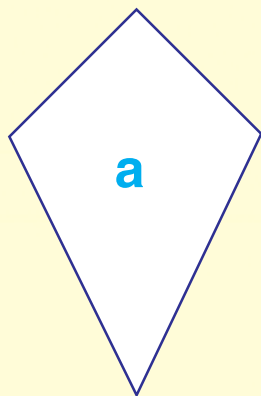
1



ditulis **b c a**



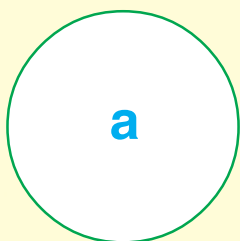


2





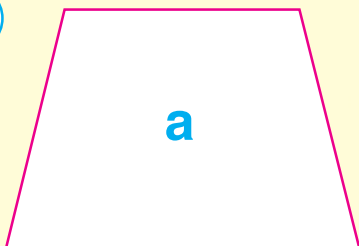
urutan ...

3



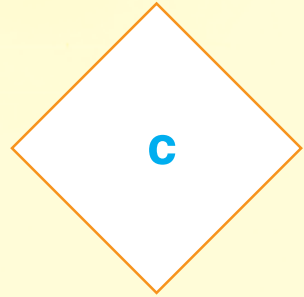

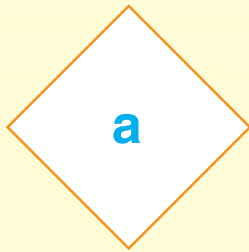
urutan ...

4





urutan ...

5



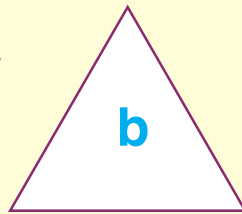
urutan ...

6



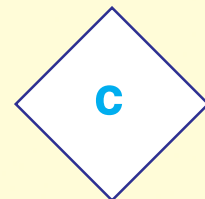

urutan ...

7



urutan ...

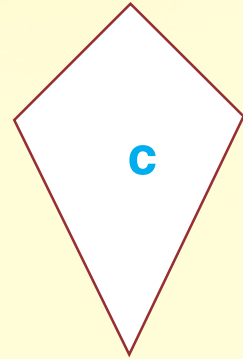
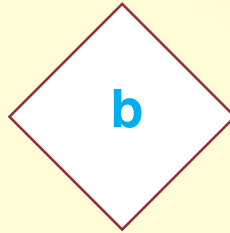
8



urutan ...



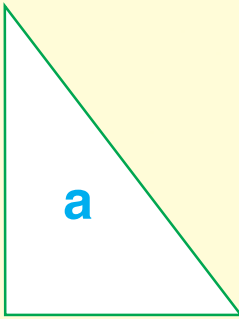


9



urutan ...

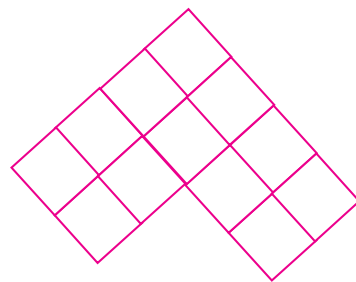
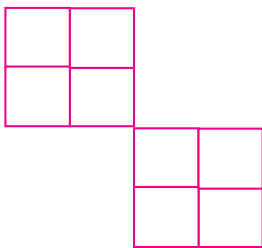
10



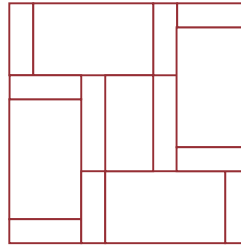
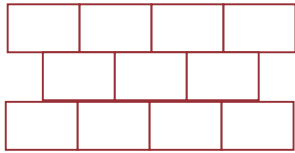
urutan ...

3 rangkaian bangun datar sejenis

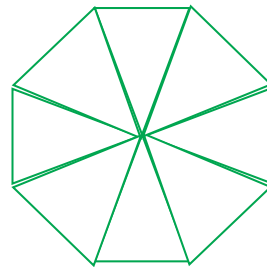
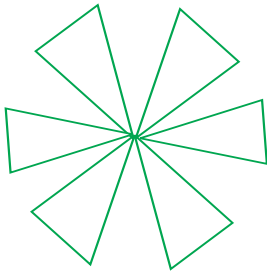
pola persegi





pola persegi panjang



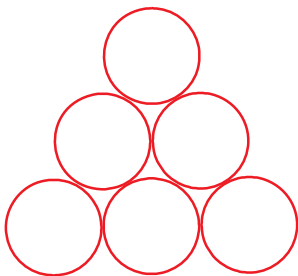
pola segitiga



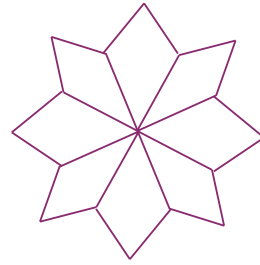
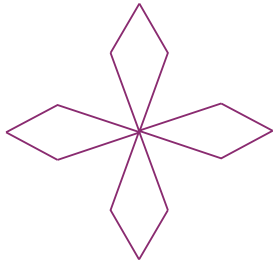
pola belah ketupat



pola lingkaran



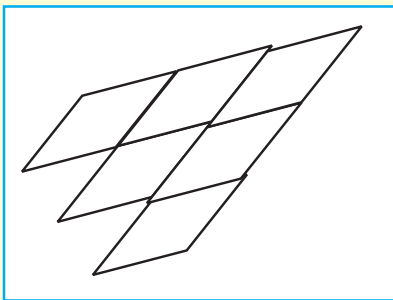
pola layang-layang



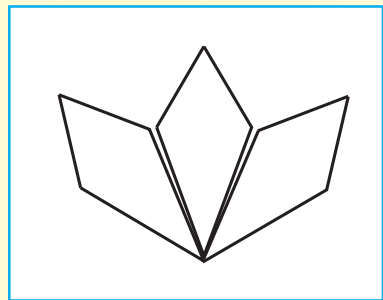
latihan 3

tentukan pola pembentuk rangkaian bangun datar berikut

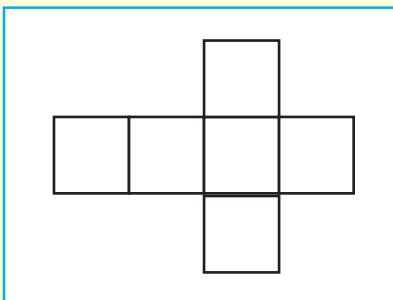
1



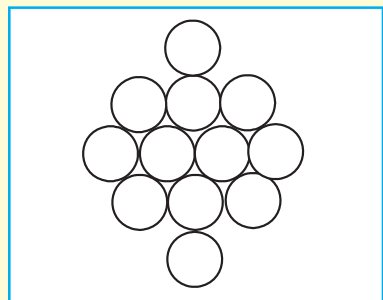
3



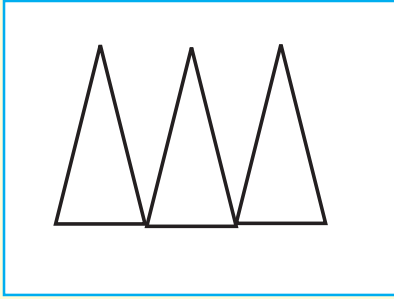
2



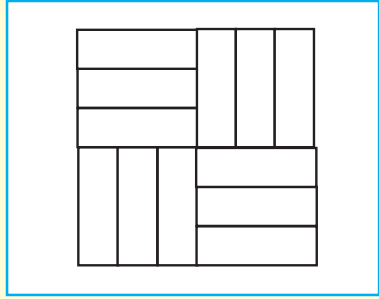
4



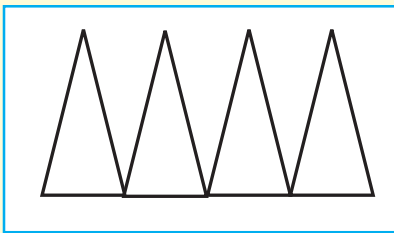
5



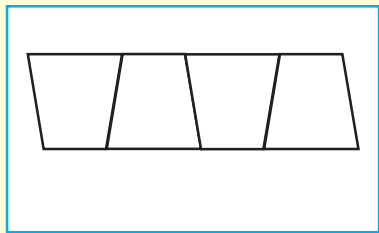
6



7




8



4 merangkai model dari berbagai bentuk bangun

perhatikan contoh di samping



latihan 4

buatlah rangkaian bebas berbagai bangun datar



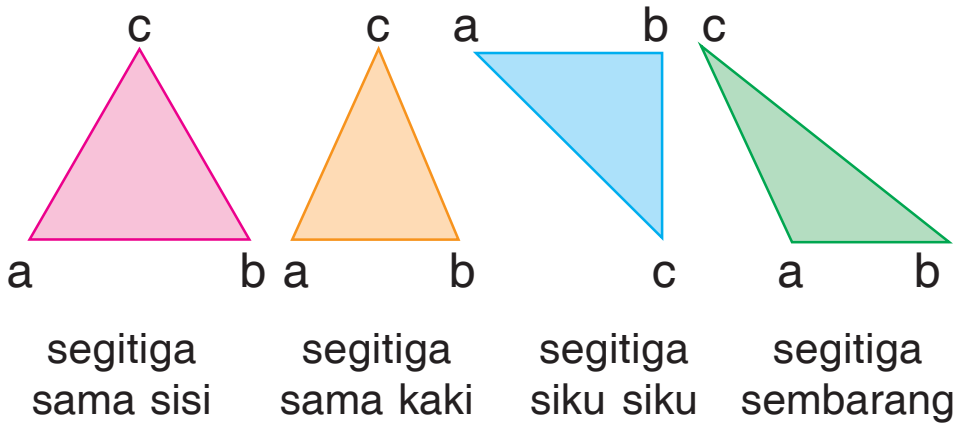
b unsur-unsur bangun datar

1 sisi bangun datar

a bangun segitiga

1 mengenal sisi segitiga

perhatikan gambar berikut



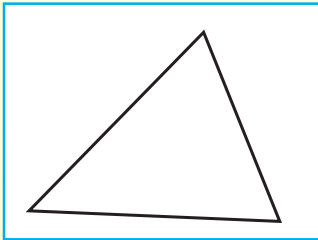
mengapa bangun bangun ini disebut segitiga
segitiga merupakan bangun datar yang
mempunyai tiga sisi
benda apa yang berbentuk segitiga



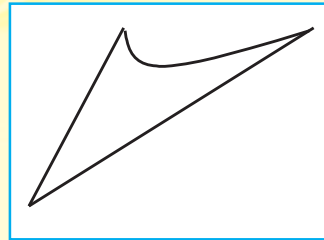
latihan 5

sebutkan gambar yang merupakan segitiga

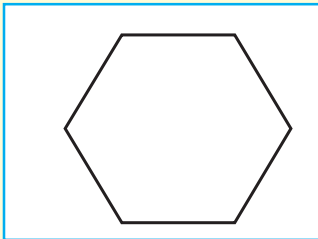
1



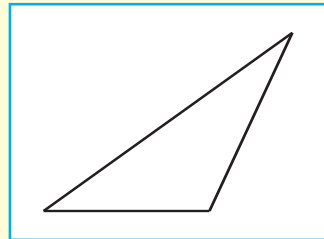
2



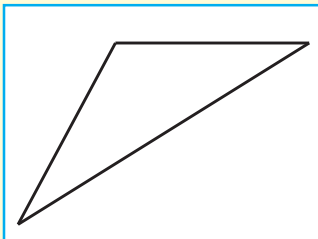
3



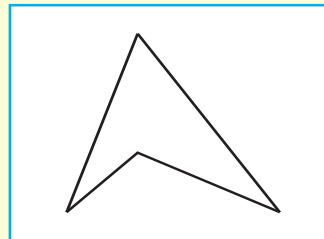
4



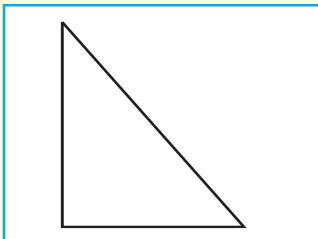
5



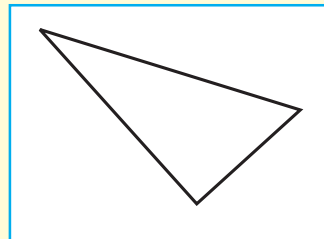
6




7



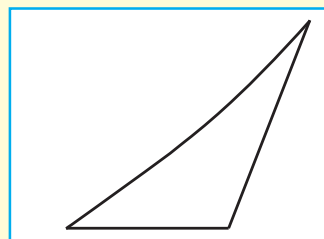
8



9



10

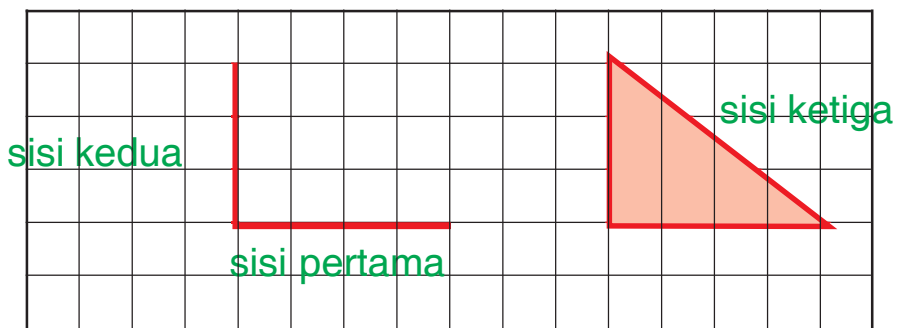


2 menggambar segitiga

ayo menggambar segitiga
siapkan kertas berpetak
kita akan menggambar segitiga
pada kertas berpetak

perhatikan contoh berikut

buatlah segitiga sama kaki pada kertas
berpetak
panjang sisi pertama 4 petak
panjang sisi keduanya 3 petak



latihan 6

**gambarlah segitiga pada buku berpetak
dengan ukuran panjang sisi berikut**

- 1 sisi pertama 6 petak
sisi keduanya 8 petak

- ② sisi pertama 7 petak
sisi keduanya 5 petak
- ③ sisi pertama 9 petak
sisi keduanya 6 petak
- ④ sisi pertama 12 petak
sisi keduanya 8 petak
- ⑤ sisi pertama 8 petak
sisi keduanya 8 petak

b bangun persegi

1 mengenal sisi persegi

perhatikan gambar berikut



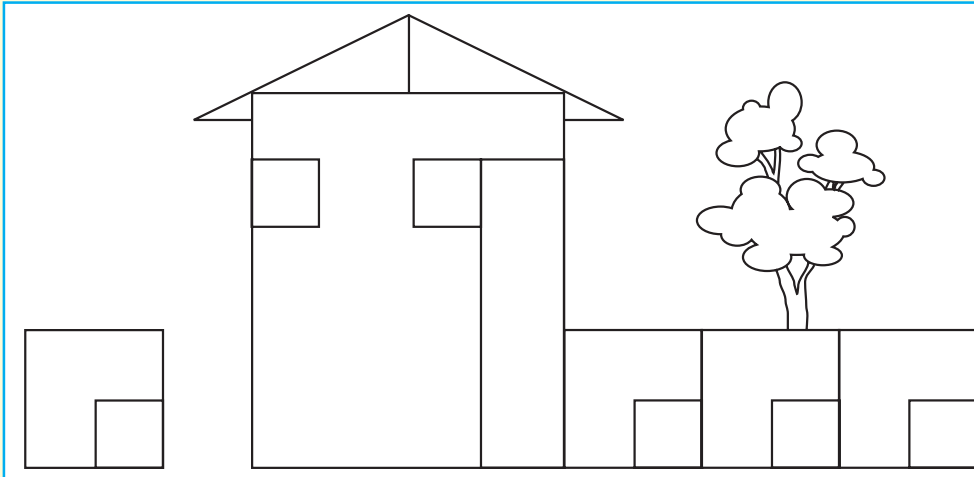
berapa banyak sisi dari bangun di atas
samakah panjang sisi sisinya
mengapa disebut persegi
persegi merupakan segi empat
keempat sisinya sama panjang
benda apakah yang berbentuk persegi





latihan 7

perhatikan gambar berikut
hitunglah banyaknya bangun yang berbentuk persegi



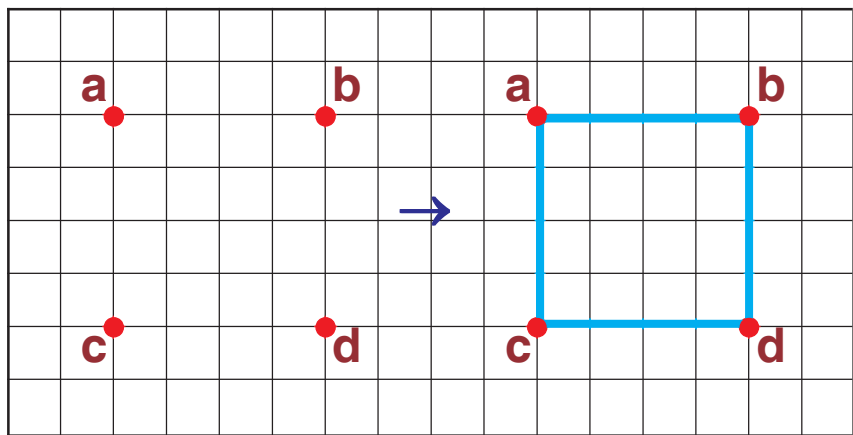
2 menggambar bangun persegi

kamu sudah mengenal bentuk persegi
ayo kita menggambar bangun persegi
pada kertas berpetak
perhatikan langkah langkah berikut

- buat titik a
- buat titik b ke arah kanan
misalnya jaraknya 4 petak dari titik pertama

- c) buat titik c berjarak 4 petak di bawah titik pertama
- d) buat titik d berjarak 4 petak dari titik ketiga
- e) hubungkan titik titik tersebut

hasilnya perhatikan gambar berikut



latihan 8

gambarlah bangun persegi di kertas berpetak dengan ukuran

- 1) 3 petak
- 2) 6 petak
- 3) 7 petak
- 4) 9 petak
- 5) 10 petak



c bangun persegi panjang

1 mengenal sisi persegi panjang

perhatikan gambar berikut

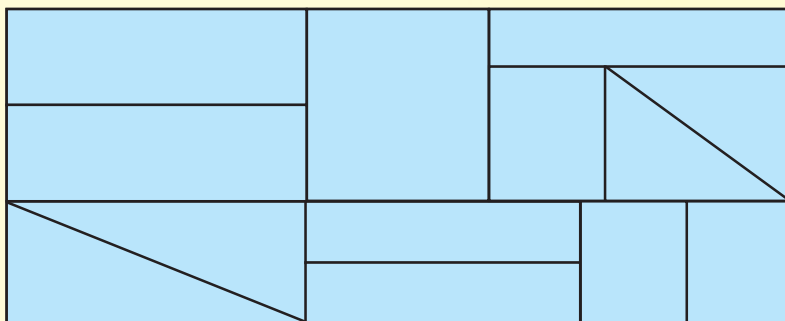


berapa banyak sisi bangun tersebut
sisi sisi mana yang sama panjang
mengapa disebut persegi panjang
persegi panjang merupakan segi empat dengan
dua sisi yang berhadapan sama panjang



latihan 9

perhatikan gambar berikut
hitung banyaknya persegi panjang




2 menggambar bangun persegi panjang

ayo menggambar bagian persegi panjang
siapkan alat tulismu



latihan 10

jiplak bangun persegi panjang berikut
menggunakan kertas tipis



bagaimanakah menggambar persegi panjang pada
kertas berpetak

lihat kembali cara menggambar persegi
lakukan langkah langkah tersebut untuk
menggambar persegi panjang





latihan 11

gambarlah bangun persegi di kertas berpetak dengan ukuran

- 1 panjang 6 petak dan lebar 4 petak
- 2 panjang 7 petak dan lebar 3 petak
- 3 panjang 8 petak dan lebar 2 petak
- 4 panjang 9 petak dan lebar 5 petak
- 5 panjang 10 petak dan lebar 6 petak

2 sudut

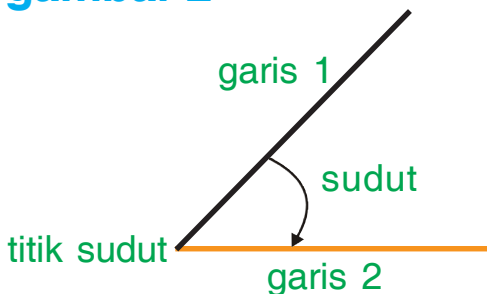
ikuti kegiatan berikut

ambil sebatang sedotan atau lidi
tekuk seperti gambar 2 dan 3
manakah yang disebut sudut

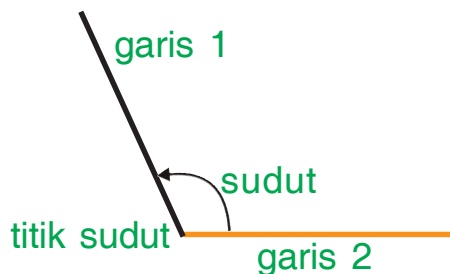
gambar 1



gambar 2



gambar 2



berikut sudut sudut pada bangun datar

a segitiga

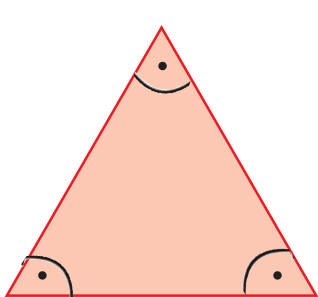
segitiga mempunyai tiga sudut

sudut segitiga sama sisi sama besar

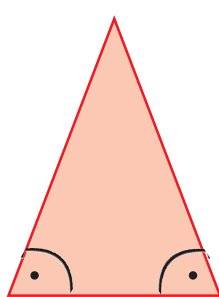
dua sudut segitiga sama kaki sama besar

segitiga siku siku adalah segitiga


salah satu sudutnya berbentuk siku siku



segitiga sama sisi



segitiga sama kaki



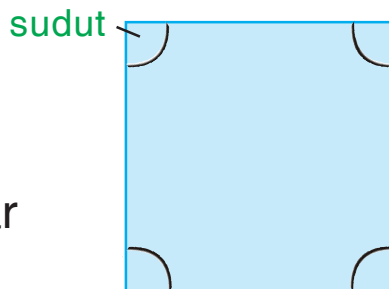
segitiga siku siku

b sudut pada persegi

persegi mempunyai

empat sudut

semuanya sama besar



c sudut pada persegi

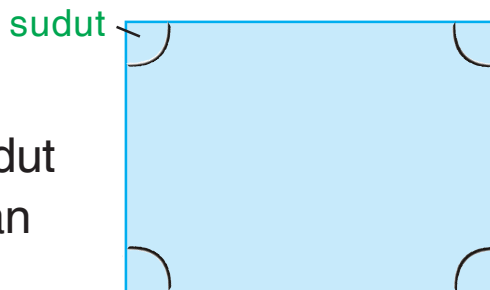
panjang

persegi panjang

mempunyai empat sudut

sudut yang berhadapan

sama besar

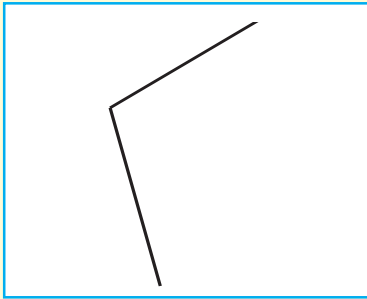




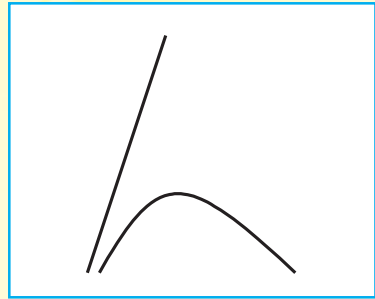
latihan 12

gambar nomor berapa merupakan sudut

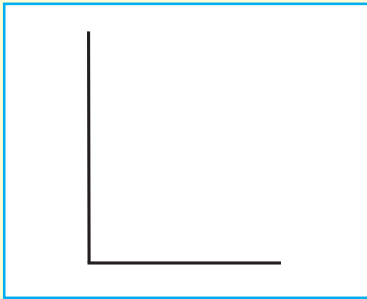
1



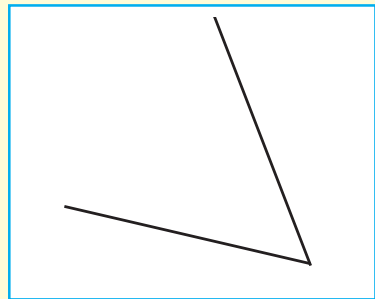
2



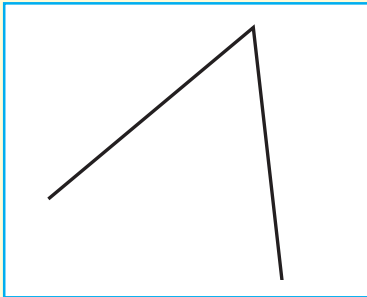
3



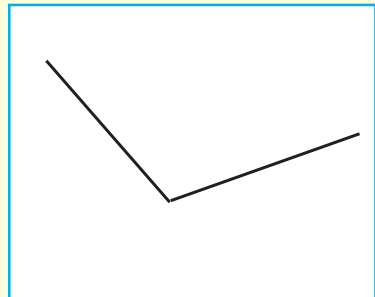
4



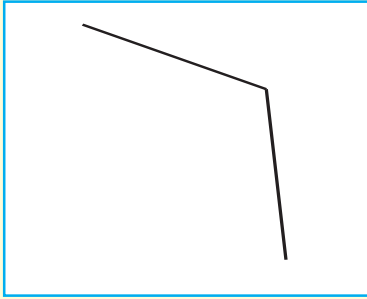
5



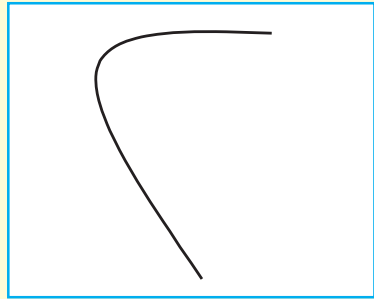
6



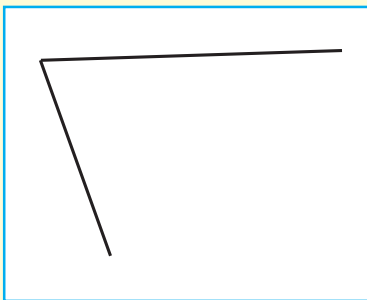
7




8



9



10



berpikir kritis

mengapa roda sepeda berbentuk lingkaran
mengapa roda sepeda tidak berbentuk persegi





kegiatan

gambarlah 5 bangun datar sesuai sudutnya
warnailah dengan warna merah jika segitiga



rangkuman

lingkari yang telah dipelajari

no	materi yang dipelajari
1	mengelompokkan bangun datar menurut bentuknya
2	mengelompokkan bangun datar menurut ukurannya
3	mengenal sudut
4	mengenal segitiga
5	mengenal segi empat
6	menggunakan panjang dan lebar segi empat
7	menggambar bangun datar



evaluasi

a isilah titik titik berikut dengan jawaban yang tepat

1



nama bangun datar di samping adalah....

2


jumlah sisi pada bangun segitiga adalah ...

3



nama bangun datar di samping adalah ...

4

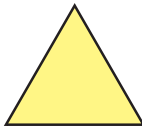


gambar di samping dibentuk dari rangkaian bangun datar ...

5

jumlah sisi pada bangun segi empat adalah ...

6

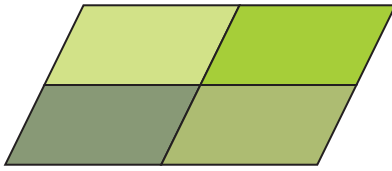


gambar di samping terdiri dari bangun ...



7 contoh gambar bangun segitiga adalah ...


8



gambar di samping dibentuk dari rangkaian bangun datar ...

9 contoh gambar bangun datar layang layang adalah ...

10




bentuk bangun datar gambar di samping adalah ...

11 benda di kelasmu yang berbentuk persegi panjang adalah ...

12 pada bangun datar segitiga terdapat ... sudut

13 contoh gambar yang membentuk sudut adalah ...

14



nama bangun datar di samping adalah ...

15 bangun datar yang mempunyai sudut siku siku adalah ...

b kerjakan soal soal berikut

- 1 apakah sudut itu
- 2 apakah segitiga itu
- 3 jelaskan yang dimaksud segi empat
- 4 berapa jumlah sudut segitiga
- 5 berapa jumlah sudut segi empat



r e f l e k s i

materi yang perlu belajar lebih

no	materi yang dipelajari
1	mengelompokkan bangun datar menurut bentuknya
2	mengelompokkan bangun datar menurut ukurannya
3	mengenal sudut
4	mengenal segitiga
5	mengenal segi empat
6	menggunakan panjang dan lebar segi empat
7	menggambar bangun datar





latihan ulangan semester 2

a berilah tanda silang (x) pada huruf a b atau c di depan jawaban yang benar

① $6 \times 5 = \dots$

a 11

b 30

c 35

② $8 \times 4 = \dots$

a 32

b 36

c 20

③ $36 : 4 = \dots$

a 12

b 9

c 6

④ $48 : 6 = \dots$

a 6

b 8

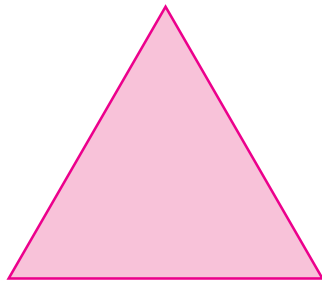
c 9

- 5) $13 \times 10 = \dots$
- a 113
 - b 130
 - c 301
- 6) $(8 \times 8) - (7 \times 5) = \dots$
- a 35
 - b 29
 - c 28
- 7) $(42 : 6) \times 8 = \dots$
- a 56
 - b 63
 - c 72
- 8) $120 : (6 \times 5) = \dots$
- a 40
 - b 30
 - c 20
- 9) $17 \times 6 = \dots$
- a 32
 - b 102
 - c 201

10 $72 : \dots = 8$

- a 7
- b 8
- c 9

11



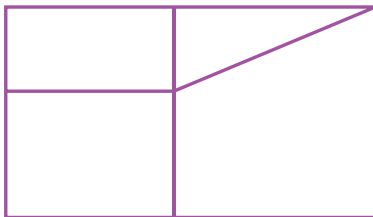
nama bangun datar di samping adalah ...

- a segitiga
- b persegi
- c persegi panjang

12 jumlah sisi pada bangun segi empat ada ... buah

- a 5
- b 4
- c 3

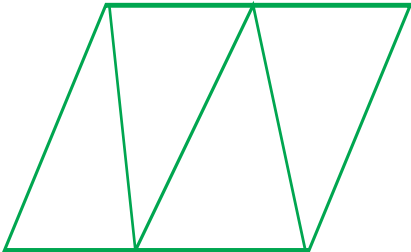
13




gambar di samping dibentuk oleh ... bangun datar

- a 3
- b 4
- c 5

- 14) bangun persegi panjang terdiri dari ... sudut
- a 3 buah
 - b 4 buah
 - c 5 buah

- 15)  gambar di samping dibentuk dari rangkaian bangun ...
- a jajargenjang
 - b segitiga
 - c persegi panjang




- 16)  nama bangun di samping adalah ...
- a persegi
 - b jajargenjang
 - c trapesium

- 17) bangun datar yang memiliki 3 buah sisi dan 3 buah sudut adalah ...
- a jajar genjang
 - b layang layang
 - c segitiga

18) tentukan bangun selanjutnya ...



19) urutan dari yang terkecil ke terbesar adalah ...



- 20 benda yang bentuknya sama dengan lingkaran adalah ...
- a jam dinding
 - b meja
 - c kursi

b isilah titik titik berikut dengan jawaban yang tepat

1 $5 \times 6 = \dots + \dots + \dots + \dots + \dots = \dots$

2 $9 \times \dots = 63$
 $63 : 9 = \dots$

- 3 aldi membeli 3 bungkus kerupuk setiap bungkus berisi 4 kerupuk banyak kerupuk yang dibeli aldi adalah ... kerupuk



gambar di samping dibentuk oleh bangun datar ...

- 5 gambar persegi dengan ukuran sisi 5 cm adalah ...





glosarium

bangun datar	: bangun yang dibuat pada permukaan datar
berat	: besar ukurannya
jam analog	: jam yang menampilkan angka 1 sampai 12
jam digital	: jam elektronik yang menunjukkan waktu dalam bentuk angka
nilai tempat	: tempat suatu angka dalam lambang bilangan
pembagian	: operasi hitung yang menggunakan tanda $:$
pengurangan	: operasi hitung yang menggunakan tanda $-$
penjumlahan	: operasi hitung yang menggunakan tanda $+$
perkalian	: operasi hitung yang menggunakan tanda \times
persegi	: bangun datar yang mempunyai empat sisi sisinya sama panjang dan empat sudut sama besar
persegi panjang	: bangun datar yang mempunyai dua sisi berhadapan sama panjang
segitiga	: bangun datar yang mempunyai tiga sisi, tiga sudut, dan tiga buah titik sudut



daftar pustaka



- Activites La Bande A Birgal Des 4 Ans: Belgia: Caramel.
- Andrew Er. 2001. *Improve Your Mathematics Primary Five*. Educational Publishing House. Singapore.
- A.N. Lim. 2004. *Mathematics Topical Exercises Primary 5*. Success Publications PTE LTD. Singapore.
- Armstrong, Thomas. 2003. *Setiap Anak Cerdas*. Jakarta: Gramedia Pustaka Utama.
- Calvin T. Long. *Mathematical Reasoning for Elementary Teachers*, Duane W Detempe.
- Departemen Pendidikan Nasional. 2006. Kurikulum Tingkat Satuan Pendidikan. Jakarta: Direktorat Jenderal Pendidikan Dasar.
- Depdikbud Ditjen Dikti, Bagian Proyek Pengembangan Pendidikan Guru SD. 2004. *Pembelajaran Terpadu D-II PGSD dan S2 Pendidikan Dasar*. Jakarta.
- Depdiknas. Balitbang. 2001. *Petunjuk Teknis Pembelajaran Tematis Kelas 1 dan 2*. SD dan MI. Jakarta.
- Depdiknas. 2003. *Undang-Undang Sistem Pendidikan Nasional*. Jakarta.
- Disney's Ensiklopediku yang Pertama. 2004. Jakarta: Bhineka Surya Pratama.
- Djamarah, Syaiful Bahri dan Aswan Zain. 2002. *Strategi Belajar Mengajar*. Jakarta: Rineka Cipta.
- Leong, A. dan K.S. Tin. *Progressive Mathematics for Primary Schools*. Singapore: Educational Publications Bunran Pte. Ltd.
- Marshall, J., dkk. *New Curriculum Mathematics for Schools*. Hongkong: Longman Group FE Ltd.
- Ong, P. dan Tan K.T. *Mathematics – An Enrichment Programme for Primary*. Singapore: Pan Fasific Publications Pte. Ltd.





indeks

b

bangun datar 147 148 150
157

berat 103 105 106 107

bilangan ganjil 19 20

bilangan genap 19 20

f

fakta pembagian 132

fakta perkalian 116

j

jam analog 73

jam digital 77

jarum jam 73 74 75 79 81

l

lingkaran 147 154

lebar 94 163

m

membandingkan bilangan
12 14 7

membilang loncat 7

membilang urut 4

n

nilai tempat 21

p

panjang 26 87 89 91 93 163

pembagian 128 131 132 134 137

penjumlahan dan menyimpan 36

pengurangan dan meminjam 58

perkalian 115 124 126 131 134

persegi 147 150 153 160 161
164

persegi panjang 147 148 163
164 166

s

satuan baku 91 103

satuan tidak baku 90

segi empat 163

segitiga 147 157 166

sifat pengelompokan 127

sifat pertukaran 126

w

waktu 73 81



bab 1

latihan 1

1. 24; 3. 37; 5. 90

latihan 4

1. 128; 3. 263; 5. 335;
6. 374; 7. 308; 9. 442

latihan 5

2. lebih banyak; 3. lebih sedikit; 5. lebih sedikit

latihan 6

1. sama dengan; 3. lebih kecil; 5. sama dengan; 7. sama dengan; 9. lebih kecil

latihan 7

1. 128, 133, 146, 157, 191; 3. 189, 198, 243, 277, 312; 5. 427, 405, 371, 259, 225

latihan 8

1. 164, 380, 518, 412, 236; 2. 164, 236, 380, 412, 518

latihan 10

a. 1. 142; 3. 257;
5. 208; 7. 372;
9. 430

latihan 11

1. $8 + 6 = 14$;
3. delapan + delapan = enam belas
 $8 + 8 = 16$
5. empat belas + sepuluh = dua puluh empat
 $14 + 10 = 24$

latihan 12

1. $10 + 3$; 3. $30 + 4$;
5. $50 + 0$; 7. $70 + 7$;
9. $90 + 2$

latihan 13

a. 1. 36; 3. 78;
5. 89

latihan 14

a. 1. 171; 3. 289;
5. 392; 7. 375;
9. 299



latihan 15

- b. 1. 359; 3. 697;
5. 399; 7. 516;
9. 415

evaluasi

- a. 1. 2 9 6;
2. 318; 6. 359;
8. 284; 11. puluhan;
14. 80; 15. lebih besar

bab 2

latihan 1

1. tujuh; 3. sebelas;
5. satu; 7. dua belas

latihan 2

1. setengah tiga;
3. setengah lima;
5. setengah dua;
7. setengah sembilan

latihan 3

1. 11 51;
3. 3 30;
5. 13 15

latihan 5

1. 07.00; 3. 11.00;
5. 10.30; 8. 06.00

latihan 7

1. 2 jam; 3. 3 jam;
5. 2 jam

latihan 8

1. lebih panjang;
3. lebih pendek;
5. lebih panjang

latihan 14

1. lebih berat;
4. lebih berat

latihan 15

2. 2; 3. 2, 3; 6. 4

evaluasi

- a. 2. 1 jam; 5. 5 m;
6. cm

Latihan Ulangan Semester 1

- a. 1. c; 3. c; 4. b; 8. b; 11. c; 13. a; 15. a; 20. c
b. 1. 1 jam; 3. 3 kilogram

bab 3

latihan 1

b. 1. 20; 3. 24; 5. 30

latihan 2

1. 24; 3. 32; 5. 72;
7. 18; 9. 18

latihan 3

2. 21; 3. 12; 9. 48

latihan 5

2. 3; 5. 5; 9. 6

latihan 6

1. 8; 3. 20; 5. 24;
7. 35; 9. 24

latihan 9

1. 18; 3. 36; 5. 40

latihan 10

1. 6; 3. 6; 5. 9

evaluasi

a. 1. 35; 2. 3; 4. 9;
5. 28; 10. 45; 14. 6

bab 4

latihan 1

1. persegi; 3. segitiga;
5. jajargenjang;
8. layang layang

latihan 3

1. belah ketupat;
3. layang layang;
5. segitiga; 8. trapesium

latihan 5

1, 4, 5, 8, 7

evaluasi

a. 1. persegi; 2. 3;
4. persegi panjang;
5. 4; 8. jajar genjang;
12. 3

Latihan Ulangan Semester 2

a. 1. a; 3. b; 5. b; 7. a; 16. b; 19. b



Asyiknya Belajar

Matematika

Untuk SD/MI Kelas II

Buku Matematika seri Asyiknya Belajar Matematika disusun untuk kemajuan belajar anak-anak Indonesia. Setiap bab dalam buku ini disajikan sebagai berikut.

1. Peta Konsep, berisi pokok-pokok materi yang akan dipelajari.
2. Materi, disusun berdasarkan Peraturan Menteri Pendidikan Nasional RI No.22 dan 23 Tahun 2006.
3. Latihan, berisi soal-soal untuk mengasah kemampuan siswa secara mandiri.
4. Berpikir kritis, melatih kemampuan berpikir siswa secara bebas.
5. Kegiatan, berisi kegiatan untuk melatih kecepatan berpikir.
6. Rangkuman, berisi inti dari materi yang diberikan untuk memudahkan belajar siswa.
7. Evaluasi, berisi soal-soal yang berkualitas dilengkapi dengan jawaban soal terpilih.
8. Refleksi, berfungsi untuk menguji kemampuan kalian dalam menerima materi pelajaran.
9. Glosarium, berisi daftar kata penting beserta artinya.
10. Indeks, berisi daftar kata penting dan halaman munculnya kata tersebut.
11. Latihan ulangan semester 1 dan 2, berisi soal-soal yang mencakup keseluruhan materi pelajaran, dilengkapi kunci jawaban terpilih.

ISBN : 978-979-068-554-3 (No. jil lengkap)

ISBN : 978-979-068-556-7

Buku ini telah dinilai oleh Badan Standar Nasional Pendidikan (BSNP) dan telah dinyatakan layak sebagai buku teks pelajaran berdasarkan Peraturan Menteri Pendidikan Nasional Republik Indonesia Nomor: 81 Tahun 2008 Tanggal 11 Desember 2008 tentang Penetapan Buku Teks Pelajaran yang Memenuhi Syarat Kelayakan untuk Digunakan dalam Proses Pembelajaran.

Harga Eceran Tertinggi: Rp13.016,-